

## 2018年度 入学試験問題

# 社 会

## (第1回)

[注意]

1. 試験開始の合図があるまで、この問題冊子の中を見てはいけません。
2. 解答用紙は、問題冊子の中にはさんであります。試験開始の合図があったら、解答用紙を取り出して受験番号と氏名を記入し、QRコードシールをはりなさい。
3. 解答はすべて解答用紙に記入しなさい。特に指定がない場合は、ひらがなで構いません。
4. 問題冊子の余白等は自由に使って構いません。
5. 試験終了後、解答用紙のみ提出し、問題冊子は持ち帰りなさい。

1 次の問いに答えなさい。

問1 日本の畜産業に関する次の問いに答えなさい。

- (1) 次の表1は、米、大豆、野菜、果実、肉類（鯨を除く）の自給率の推移を示したものです。肉類にあたるものを表中の1～5から一つ選び、番号で答えなさい。

表1  
食料自給率の推移（国内総供給量に対する国産供給量の割合）（％）

	1960年	1970年	1980年	1990年	2000年	2010年
1	28	4	4	5	5	6
2	91	89	81	70	52	56
3	100	84	81	63	44	38
4	100	99	97	91	81	81
5	102	106	100	100	95	97

『日本国勢図会より作成』

- (2) 次の略地図は、2016年2月現在の乳用牛、肉用牛、豚、肉用若鶏の飼育頭数上位5県をそれぞれ示したものです。乳用牛にあてはまるものを1～4から一つ選び、番号で答えなさい。



1



2



3



4

『日本国勢図会2017/18による』

(3) 日本の畜産業の現状について説明している文として誤っているものを次の1～4から一つ選び、番号で答えなさい。

- 1 2015年の畜産業の産出額は、多い順に鶏（鶏卵含む）、乳用牛（生乳含む）、肉用牛、豚の順となっている。
- 2 畜産業は、農村地域の人口減少から深刻な後継者不足におちいっており、働く人の高齢化が進んでいる。
- 3 世界全体で進む飼料価格の高騰<sup>こうとう</sup>や、家畜の伝染病対策などの費用の増加で、畜産農家の負担は年々大きくなっている。
- 4 政府による畜産業の振興策として、日本産畜産物を証明する統一マークを定めて高品質な畜産物の輸出を後押しするとともに、外国産畜産物の輸入制限を始めている。

問2 次の表2は、日本で生産されるおもな果実のうち、生産量上位5県を示したもので、1～4は、日本なし、ぶどう、もも、りんごのいずれかを示しています。あとの問いに答えなさい。

表2

1		2		3		4	
青森	57.9%	<input type="text" value="B"/>	12.8%	山梨	22.9%	山梨	31.7%
<input type="text" value="A"/>	19.4	茨城	10.6	<input type="text" value="A"/>	15.7	福島	21.8
山形	6.2	栃木	8.4	山形	10.1	<input type="text" value="A"/>	13.0
岩手	6.0	福島	8.3	岡山	9.0	和歌山	7.7
福島	3.2	鳥取	7.8	福岡	4.6	山形	6.7
生産量	81万1500 t	生産量	24万7300 t	生産量	18万500 t	生産量	12万1900 t

『日本国勢図会2017/18による』

(1) 空らん  ・  にあてはまる都道府県名を漢字で答えなさい。

(2) ももの生産量にあてはまるものを表の1～4から一つ選び、番号で答えなさい。

問3 資源の少ない日本では、その多くを外国から輸入しています。次の表3は、鉄鋼生産に欠かすことのできない鉱産資源のうち2種類について、日本の輸入相手国と総輸入量を示したものです。表中の空らん **A** の鉱産資源名と **C** の国名の正しい組合せを下の1～4から一つ選び、番号で答えなさい。

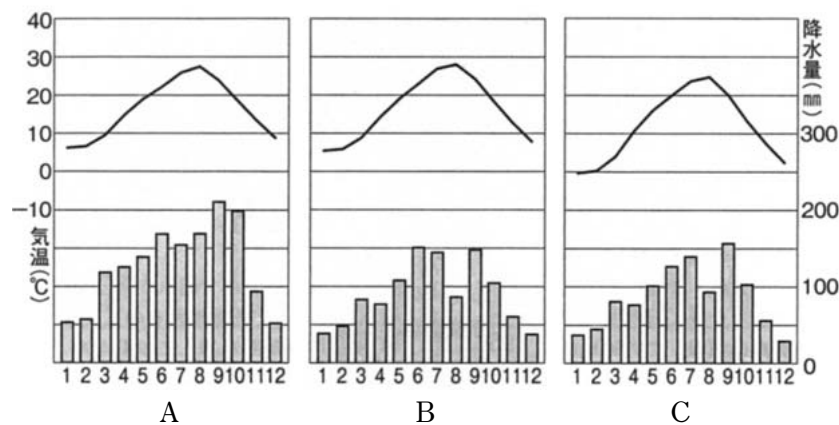
表3

資源名	<b>A</b>		<b>B</b>	
総輸入量	1億3095万トン		1億9065万トン	
1位	<b>C</b>	61.0%	<b>C</b>	65.0%
2位	ブラジル	27.8	インドネシア	17.1
3位	南アフリカ	4.3	ロシア	8.8
4位	カナダ	3.0	カナダ	4.2
5位	チリ	1.0	アメリカ	3.2

【データブック・オブ・ザ・ワールド2017による】

	1	2	3	4
A	石炭	石炭	鉄鉱石	鉄鉱石
C	オーストラリア	中国	オーストラリア	中国


問4 次のA～Cは3つの都市の気温と降水量を示したグラフで、東京、松本、高松のいずれかがあてはまります。各グラフと3つの都市の正しい組合せを下の1～6から一つ選び、番号で答えなさい。



【理科年表 平成29年による 1981～2010年の平均】

	1	2	3	4	5	6
A	高松	高松	東京	東京	松本	松本
B	東京	松本	高松	松本	高松	東京
C	松本	東京	松本	高松	東京	高松

問5 次のグラフは、日本の工業における製造品出荷額構成の推移を示したもので、A～Eはそれぞれ、化学、機械、金属、食料品、<sup>せんい</sup>繊維のいずれかがあてはまります。BおよびEにあてはまるものを下の1～5から一つずつ選び、番号で答えなさい。



- 1 化学工業    2 機械工業    3 金属工業    4 食料品工業    5 繊維工業

- 2 <sup>はな</sup>華さんは、海外へ渡った歴史上の人物についてカードにまとめました。次の<カードA>～<カードD>について、あとの問いに答えなさい。

<カードA>

「日出づる<sup>ひい</sup>処<sup>ところ</sup>の天子、書を日没する処の天子に致す。」という手紙を持って、<sup>(ア)</sup>607年に遣隋使として派遣された。

<カードB>

留学生として唐に派遣されたが、帰国がかなわず、<sup>(イ)</sup>「天の原 ふりさけみれば 春日なる 三笠の山に 出でし月かも」という歌を<sup>よ</sup>詠んだ。

<カードC>

1613年に<sup>(ウ)</sup>仙台藩の伊達政宗の命を受けて、ノビスパン<sup>※1</sup>を経由してヨーロッパに派遣され、ローマ教皇に<sup>えっけん</sup>謁見<sup>※2</sup>した。通商開始の使命を帯びていたが、失敗し、帰国した。

<カードD>

<sup>(エ)</sup>江戸時代末期に<sup>かんりんまる</sup>咸臨丸に乗船し、アメリカへ渡った。1868年に自身が開いていた蘭学塾を慶應義塾と名付け、<sup>(オ)</sup>明治時代とってから『<sup>ぶんめいろん の がいりやく</sup>文明論之概略』などを著した。

※1 現在のメキシコ ※2 貴人や目上の人にお目にかかること。

問1 下線部(ア)の年号は、何世紀ですか。解答らんにあうように算用数字で答えなさい。

問2 <カードA>より前の時代の外交について説明した文として正しいものを次の1～4から一つ選び、番号で答えなさい。

- 1 邪馬台国の卑弥呼は、中国の王朝に使いを送り、銅鏡や金印を授けられたことが『後漢書』東夷伝に記載されている。
- 2 志賀島から出土した金印は、奴国の王が中国に使いを送った際に授けられたもので、このことは『魏志』倭人伝に記載されている。
- 3 雄略天皇が朝鮮半島の支配権を認めてもらうために、中国に使いを送り称号を得たことが『宋書』倭国伝に記載されている。
- 4 足利義満によって貿易が開始され、海賊対策のために勘合を用いたことが『漢書』地理志に記載されている。

問3 <カードA>の時代の政治状況や文化について説明した文a・bの正誤の組合せとして正しいものを下の1～4から一つ選び、番号で答えなさい。

- a 推古天皇の下で聖徳太子が冠位十二階や憲法十七条を制定し、中央集権国家を作ろうとした。
- b 国家の力を示すために『万葉集』や『古今和歌集』といった歌集が作られた。

- 1 a－正 b－正 2 a－正 b－誤 3 a－誤 b－正 4 a－誤 b－誤

問4 下線部（イ）の歌が詠まれた時代について説明した文として正しいものを次の1～4から一つ選び、番号で答えなさい。

- 1 藤原頼通が宇治に平等院鳳凰堂を開いた。
- 2 平将門が新皇と称して、関東で反乱を起こした。
- 3 聖武天皇が全国に国分寺、国分尼寺を建立する詔<sup>みことのり</sup>を出した。
- 4 大海人皇子が友友皇子に勝利し、天武天皇として即位した。

問5 <カードB>で説明している人物を漢字で答えなさい。

問6 <カードC>について、江戸時代前半に起きた次の出来事を古い順に並べて、3番目にあたるものを次の1～4から一つ選び、番号で答えなさい。

- 1 大坂夏の陣で豊臣氏が滅亡した。
- 2 天草四郎時貞を中心とした島原の乱が発生した。
- 3 徳川綱吉によって、生類憐みの令が出された。
- 4 徳川家康が将軍職を息子の徳川秀忠に譲った。

問7 下線部（ウ）について、仙台藩のあった宮城県について説明した文a・bの正誤の組合せとして正しいものを下の1～4から一つ選び、番号で答えなさい。

- a 県内には、奥州藤原氏の全盛期を示す中尊寺金色堂がある。
- b 江戸時代の東廻り航路の起点となる酒田市は県東部の海岸沿いにある。

- 1 a－正 b－正
- 2 a－正 b－誤
- 3 a－誤 b－正
- 4 a－誤 b－誤

問8 下線部（エ）について、江戸時代末期の外交の状況を説明した文a・bの正誤の組合せとして正しいものを下の1～4から一つ選び、番号で答えなさい。

- a 日米修好通商条約を締結したことで、下田、横浜、長崎を開港した。
- b 貿易開始当初は、日本から生糸などが大量に輸出され国内の物価が大きく下落した。

- 1 a－正 b－正
- 2 a－正 b－誤
- 3 a－誤 b－正
- 4 a－誤 b－誤

問9 下線部（オ）について、明治時代の出来事について説明した文として誤っているものを次の1～4から一つ選び、番号で答えなさい。

- 1 岩倉具視を中心とした使節が欧米に派遣されたが、不平等条約の改正は達成できなかった。
- 2 日清戦争の講和条約は下関で結ばれ、日本は伊藤博文と陸奥宗光が全権として参加した。
- 3 日露戦争の講和条約はアメリカのポーツマスで結ばれ、日本は賠償金を得られなかった。
- 4 第一次世界大戦の講和条約はフランスのパリで結ばれ、大隈重信が全権として出席した。

問10 <カードD>で説明している人物を漢字で答えなさい。



(問題は次のページに続く)

3 次の文章を読んで、あとの問いに答えなさい。

さて、君たち自身のことである。

君たちは、いつの時代でもそうであったように、を確立せねばならない。

——自分に厳しく、相手にはやさしく。

というを。

そして、すなおでかしこいを。

二十一世紀においては、特にそのことが重要である。

二十一世紀にあっては、<sup>(ア)</sup>科学と技術がもっと発達するだろう。科学・技術が、こう水のように人間をのみこんでしまってはならない。川の水を正しく流すように、君たちのしっかりしたが、科学と技術を支配し、よい方向に持って行ってほしいのである。

右において、私は「」ということをしきりに言った。といっても、中心におちいってはならない。

人間は、助け合って生きているのである。

私は、人という文字を見るとき、しばしば感動する。ななめの画がたがいに支え合って、構成されているのである。

そのことでも分かるように、人間は、社会をつくって生きている。<sup>(イ)</sup>社会とは、支え合う仕組みということである。

原始時代の社会は小さかった。家族を中心とした社会だった。それがしだいに大きな社会になり、今は、<sup>(ウ)</sup>国家と世界という社会をつくり、たがいに助け合いながら生きているのである。

自然物としての人間は、決して孤立して生きられるようにはつくりだされていない。

このため、助け合う、ということが、人間にとって、大きな道徳になっている。

<sup>(エ)</sup>助け合うという気持ちや行動のもとのもとは、いたわりという感情である。

<sup>(オ)</sup>他人の痛みを感じることも言ってもいい。

やさしさと、言いかえてもいい。

「いたわり」

「他人の痛みを感じること」

「やさしさ」

みな似たような言葉である。

この三つの言葉は、もともと一つの根から出ているのである。

根といっても、本能ではない。だから、私たちは訓練をしてそれを身につけねばならないのである。

その訓練とは、簡単なことである。例えば、友達がころぶ。ああ痛かったろうな、と感じる気持ちを、そのつど自分の中でつくりあげていきさえすればよい。

この根っこの感情が、の中でしっかり根づいていけば、<sup>(カ)</sup>他民族へのいたわりという気持ちもわき出てくる。

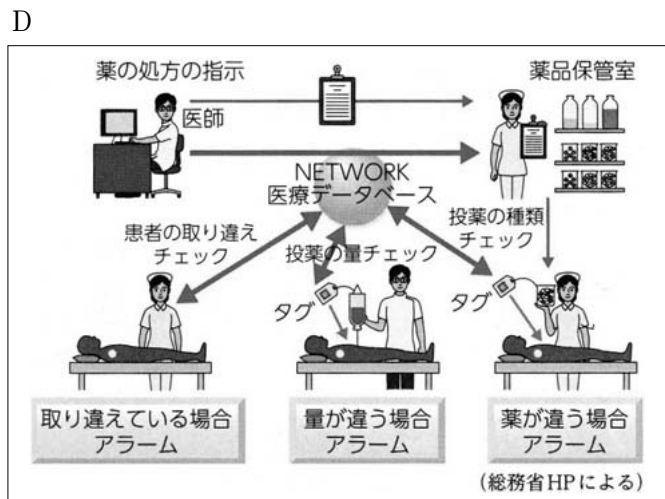


君たちさえ、そういうをつくっていけば、二十一世紀は人類が仲よしで暮らせる時代になるのにちがいない。

(「二十一世紀に生きる君たちへ」 司馬遼太郎 引用)

問1  にあてはまる語句を次の1～4から一つ選び、番号で答えなさい。

- 1 組織      2 学歴      3 自己      4 思想

問2 下線部(ア)について、A～Dの写真・図は、科学技術発達の現状や問題点を示すものです。下の1～4の説明文がそれぞれ正しければ○を、誤りであれば×を記しなさい。



(『フォーラム現代社会 2016』とうほう より引用)

- 1 Aについて…車の排気ガスなどに含まれる微粒子PM2.5が動物の呼吸器へ影響して、北極のシロクマが絶滅の危機にさらされていることを警告している写真である。
- 2 Bについて…岐阜県にある世界最大級の地熱発電施設の写真で、地熱発電は低コストの利点と環境への悪影響という負の部分<sup>あわ</sup>を併せもつ新エネルギーである。
- 3 Cについて…人型ロボット「ペッパー」の写真で、近年、高齢者施設での使用や東日本大震災の被災地における被災者のケアなどから、こうした人型ロボットの活躍が注目されている。
- 4 Dについて…「ユビキタス社会」における医薬品の安全な処方支援をイメージしたイラストである。ユビキタス社会とは「いつでも、どこでも、何でも、誰でも」コンピューターにつながり情報を利用することで、生活を豊かにすることができるという社会である。

問3 下線部（イ）について、社会保障制度の一つとして国民年金制度と介護保険制度がありますが、保険料の徴収開始年齢について次の1～4から正しいものを一つ選び、番号で答えなさい。

- |   |      |     |      |     |
|---|------|-----|------|-----|
| 1 | 国民年金 | 20歳 | 介護保険 | 40歳 |
| 2 | 国民年金 | 20歳 | 介護保険 | 20歳 |
| 3 | 国民年金 | 40歳 | 介護保険 | 40歳 |
| 4 | 国民年金 | 40歳 | 介護保険 | 20歳 |

問4 下線部（ウ）について、国家と世界を結ぶ組織として「国際連合」がありますが、その説明として正しいものを次の1～4から一つ選び、番号で答えなさい。

- 1 総会での決議は、その国の人口に応じて与えられた投票数を各国が行使し決定される。
- 2 安全保障理事会の決議に対し、事務総長は拒否権を行使することが出来る。
- 3 国際連合の本部はオランダのハーグにあったが、アメリカのニューヨークに移った。
- 4 国連憲章には国際紛争は極力平和的に解決する主旨の文言があり、PKO参加のための常設的な国連軍は設立されていない。

問5 下線部（エ）について、このような気持ちから政治に関心をもち、現在の憲法・法律のもとで、将来、内閣総理大臣を目指している中学生の考えとして正しいものを次の1～4から一つ選び、番号で答えなさい。

- 1 国防が一番大切なので自衛隊に入り、現職自衛官として内閣総理大臣を目指したい。
- 2 総理大臣は歴代総理をみてわかるように衆議院から選ばれることが法律で決まっているので衆議院議員にならないといけない。
- 3 総理大臣になるには、大学卒業以上の学歴が必要であると法律で定められているので勉強に励みたい。
- 4 総理大臣になったら国務大臣任命において、過半数を超えない範囲でスポーツ選手や芸能人などの民間人から選びたい。

問6 下線部(オ)について、それは、自他の権利、安全を尊重することにつながり、そのためのルールを守ることの大切さを知ることになります。法律や条例に関する説明として正しいものを次の1～4から一つ選び、番号で答えなさい。

- 1 法律案は必ず先に衆議院に提出され、可決された場合のみ参議院に送られる。
- 2 成立した法律案は内閣総理大臣により公布され施行される。
- 3 全国にはユニークな条例があり、「朝ごはん条例」「ノラ猫への餌やり禁止条例」などがある。
- 4 議会の条例制定・改廃の議決に、地方自治体の首長は拒否権を行使することは出来ない。

問7 下線部(カ)について、次の表は、日本への入国者の多い国・地域を示しており  ～  は、大韓民国、中華人民共和国、台湾、香港、アメリカ合衆国のいずれかを示しています。表中の空らん  ・  にあてはまる国・地域名の組合せとして正しいものを下の1～6から一つ選び、番号で答えなさい。

2015年		
順位	国・地域名	人数
1	<input type="text" value="A"/>	499万3,689
2	<input type="text" value="B"/>	400万2,095
3	<input type="text" value="C"/>	367万7,075
4	<input type="text" value="D"/>	152万4,292
5	<input type="text" value="E"/>	103万3,258

2012年		
順位	国・地域名	人数
1	<input type="text" value="B"/>	204万2,775
2	<input type="text" value="C"/>	146万5,753
3	<input type="text" value="A"/>	142万5,100
4	<input type="text" value="E"/>	71万6,709
5	<input type="text" value="D"/>	48万1,665

数値は、キッズ外務省HPより引用

- |   |   |
|---|---|
| 1 <input type="text" value="A"/> =アメリカ合衆国 | <input type="text" value="B"/> =大韓民国    |
| 2 <input type="text" value="A"/> =アメリカ合衆国 | <input type="text" value="B"/> =中華人民共和国 |
| 3 <input type="text" value="A"/> =大韓民国    | <input type="text" value="B"/> =アメリカ合衆国 |
| 4 <input type="text" value="A"/> =大韓民国    | <input type="text" value="B"/> =中華人民共和国 |
| 5 <input type="text" value="A"/> =中華人民共和国 | <input type="text" value="B"/> =アメリカ合衆国 |
| 6 <input type="text" value="A"/> =中華人民共和国 | <input type="text" value="B"/> =大韓民国    |

(問題は前のページで終わり)