

## 2018年度 入学試験問題

# 社 会

## (第2回)

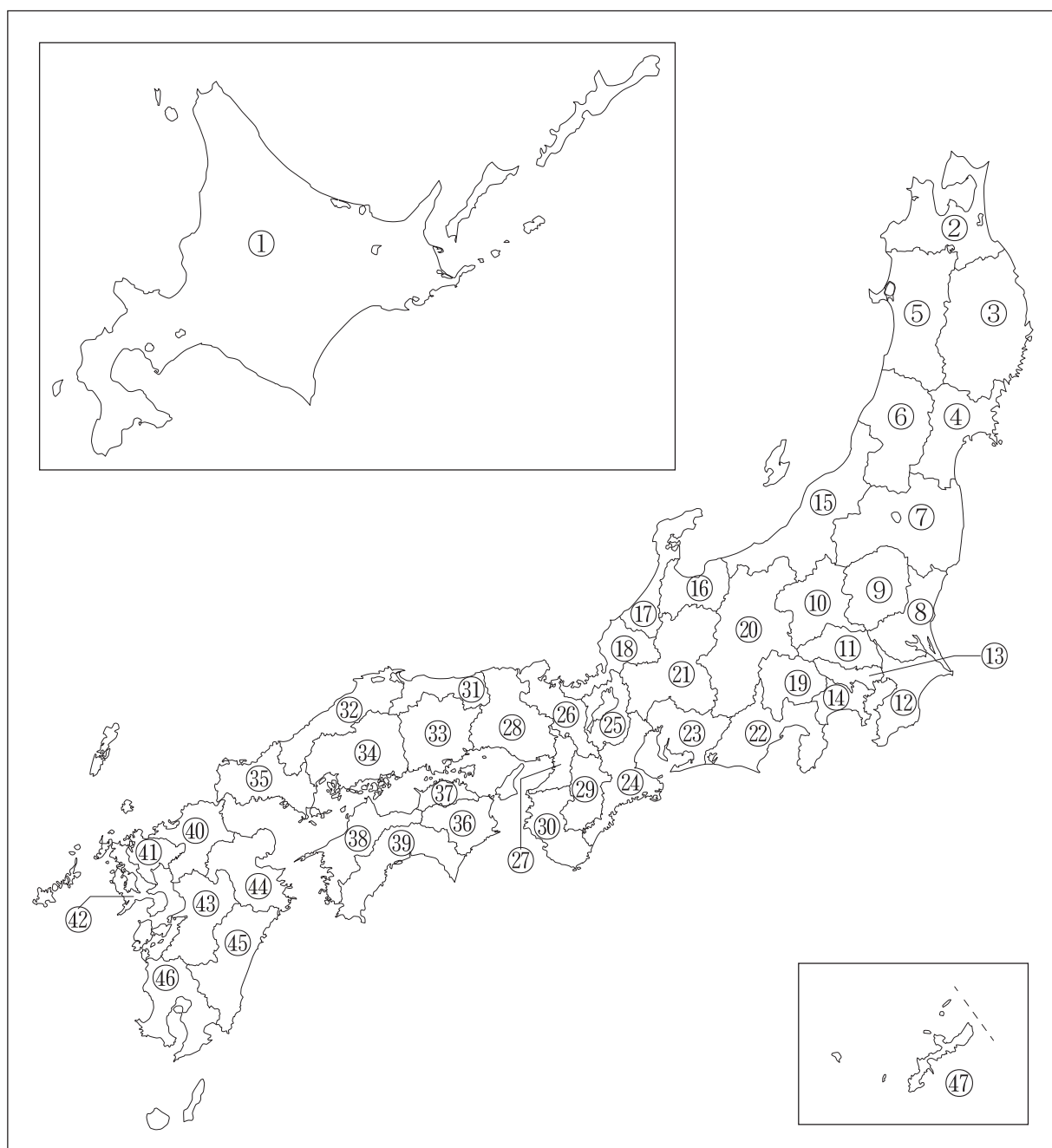
[注意]

1. 試験開始の合図があるまで、この問題冊子の中を見てはいけません。
2. 解答用紙は、問題冊子の中にはさんであります。試験開始の合図があったら、解答用紙を取り出して受験番号と氏名を記入し、QRコードシールをはりなさい。
3. 解答はすべて解答用紙に記入しなさい。特に指定がない場合は、ひらがなで構いません。
4. 問題冊子の余白等は自由に使って構いません。
5. 試験終了後、解答用紙のみ提出し、問題冊子は持ち帰りなさい。

1 次のA～Eの文は、各都道府県の特徴について説明しています。これを読んで、あとの問いに答えなさい。

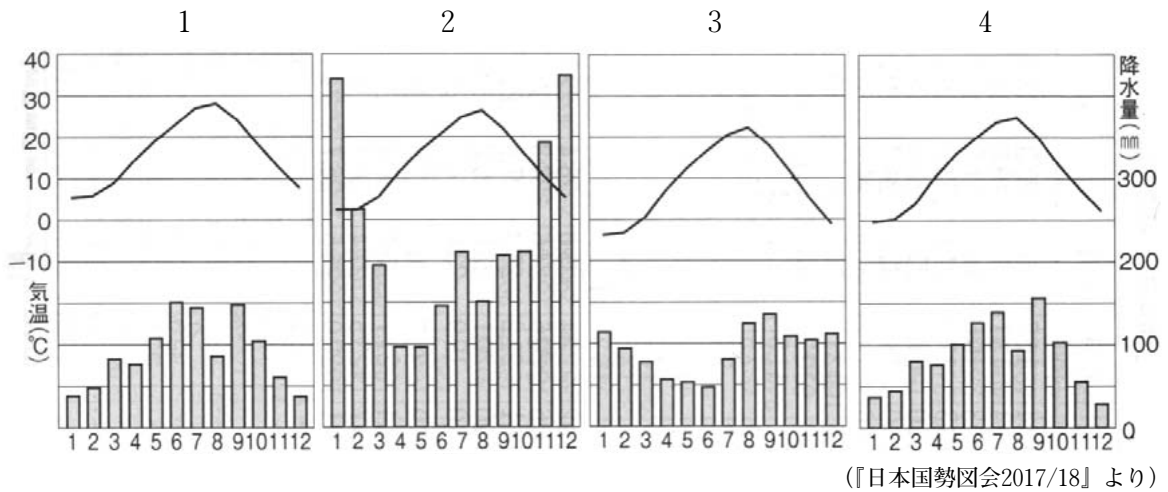
- A 都道府県の中では最も多くの県と接している。
- B この都道府県内には、政令指定都市が3つある。
- C 大鳴門橋で淡路島と結ばれている。
- D この都道府県の南部には2つの半島がつきだしており、県内にはシラス台地が広がる。
- E 面積が都道府県の中では2番目に大きい。

【略地図】



問1 Aについて、次の問いに答えなさい。

- (1) Aの都道府県内の都市の雨温図を次の1～4から一つ選び、番号で答えなさい。



- (2) Aの都道府県内を流れる河川について説明した文として正しいものを次の1～4から一つ選び、番号で答えなさい。

- 1 天竜川は、諏訪湖を水源として木曾山脈の東側を通り、太平洋へ流れ出る。
- 2 長良川の中・下流域では、水路を網の目のように張り巡らせたクリークがみられる。
- 3 神通川流域では、カドミウムを原因とした水俣病が発生した。
- 4 富士川は、伊勢湾に流れ出るが、河口部では、かつてヘドロによる公害が発生した。

- (3) Aの都道府県庁所在地名を漢字で答えなさい。また、Aの都道府県の位置を地図から選び、番号で答えなさい。

問2 Bについて、次の問いに答えなさい。

- (1) この都道府県から東京湾アクアラインに入った場合、対岸で出る都市として正しいものを次の1～4から一つ選び、番号で答えなさい。

- 1 千葉市            2 市原市            3 木更津市            4 君津市

- (2) この都道府県の歴史について説明した文として誤っているものを次の1～4から一つ選び、番号で答えなさい。

- 1 江戸時代に、箱根の関所では「入鉄砲に出女」と呼ばれる厳しい監視体制がとられた。
- 2 相沢忠洋が岩宿遺跡を発見したことにより、旧石器時代の存在が明らかになった。
- 3 源頼朝が鎌倉に本拠地を定め、政所や侍所を開設した。
- 4 小田原の北条氏が豊臣秀吉によって滅ぼされた。

- (3) 次の表の1～4は、BとBに接している都道府県の数値を示しています。Bの都道府県にあてはまるものとして正しいものを次の1～4から一つ選び、番号で答えなさい。

	1	2	3	4
農業産出額(億円)	2,154	797	295	781
漁業生産額(億円)	509	0	171	162
製造品出荷額(億円)	161,289	21,488	83,550	178,044

(『データでみる県勢2017』より作成)

問3 Cについて、次の問いに答えなさい。

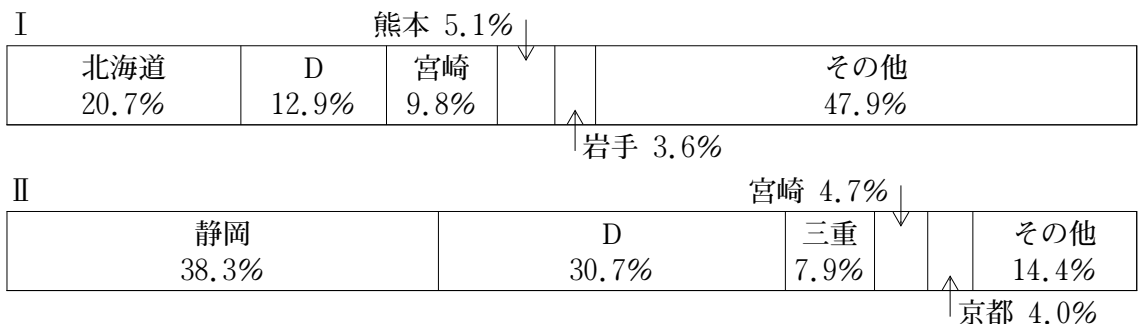
- (1) この都道府県について説明した文として正しいものを次の1～4から一つ選び、番号で答えなさい。

- 1 面積が47都道府県の中で1番小さい。
- 2 人口が47都道府県の中で1番少ない。
- 3 宇和島湾では、リアス海岸が広がり真珠の養殖が盛んである。
- 4 四国三郎と呼ばれる吉野川が県内を流れる。

- (2) Cの都道府県庁所在地名を漢字で答えなさい。また、Cの都道府県の位置を地図から選び、番号で答えなさい。

問4 Dについて、次の問いに答えなさい。

- (1) 次のグラフは、Dで飼養頭数の多い畜産物と生産が盛んな農作物の割合を示しています。グラフI・IIの畜産物、農作物の組合せとして正しいものを下の1～4から一つ選び、番号で答えなさい。



(『日本国勢図会2017/18』より作成)

- |   |       |      |   |       |         |
|---|-------|------|---|-------|---------|
| 1 | I－豚   | II－茶 | 2 | I－豚   | II－ピーマン |
| 3 | I－肉用牛 | II－茶 | 4 | I－肉用牛 | II－ピーマン |

(2) 1543年に鉄砲が伝来した島の名前を漢字で答えなさい。

問5 Eについて、次の問いに答えなさい。

(1) Eについて説明した文 a・b の正誤の組合せとして正しいものを下の 1～4 から一つ選び、番号で答えなさい。

a この都道府県内を流れる米代川は、横手盆地を通り太平洋へ流れ出る。

b 北部との都道府県境には、日本一深い十和田湖があり、ホタテの養殖が盛んである。

1 a－正 b－正                      2 a－正 b－誤

3 a－誤 b－正                      4 a－誤 b－誤

(2) E の都道府県庁所在地名を漢字で答えなさい。また、E の都道府県の位置を地図から選び、番号で答えなさい。

2

慶太くんは歴史の勉強をする際に、10年ごとに出来事を整理して、表にまとめました。これについてあとの問いに答えなさい。

10年前	2008年	(ア) <u>北海道・洞爺湖サミット</u> の開催 (イ) <u>麻生太郎</u> 内閣の発足
20年前	1998年	(ウ) <u>キトラ古墳</u> の内側の壁画が明らかになる 飛鳥池遺跡で (エ) <u>富本銭</u> が発見される
30年前	1988年	瀬戸大橋の開通 (オ) <u>消費税法</u> の成立
40年前	1978年	(カ) <u>日中平和友好条約</u> が調印される 稲荷山古墳出土鉄剣の文字が確認される
50年前	1968年	(キ) <u>イタイイタイ病</u> の原因が認定される 川端康成がノーベル文学賞を受賞する
60年前	1958年	(ク) <u>インドネシアとの平和条約と賠償協定</u> が調印される
70年前	1948年	極東国際軍事裁判で判決が出る
80年前	1938年	(ケ) <u>近衛文麿</u> 内閣が (コ) <u>中国</u> に近衛声明を出す
90年前	1928年	衆議院議員選挙において (サ) <u>普通選挙</u> が実施される
100年前	1918年	富山県で (シ) <u>米騒動</u> が起きる

問1 下線部（ア）に関連して、2014年以降、サミットに参加する国は8か国から7か国となりました。不参加となった国名を答えなさい。

問2 下線部（イ）の祖父である吉田茂が内閣総理大臣の時の出来事として誤っているものを次の1～4から一つ選び、番号で答えなさい。

- GHQの指示で大日本帝国憲法が改正され、日本国憲法が公布された。
- 教育基本法と学校教育法が公布された。
- 日ソ共同宣言後、日本は国際連合に加盟し、国際社会へ復帰した。
- 朝鮮戦争が勃発し、日本国内では警察予備隊が発足した。

問3 下線部（ウ）に関連して、古墳について説明した文として正しいものを次の1～4から一つ選び、番号で答えなさい。

- 副葬品には、剣、まが玉、鏡、かぶと、農具、馬具などがあつた。
- 大山古墳は大阪府にある前方後方墳で、その面積は日本最大である。
- 古墳づくりは東北地方から関東地方へと広がり、全国へと広まった。
- 古墳の上や周囲には円筒、家形、船形などの土偶が置かれていた。

問4 下線部(エ)が<sup>ちゅう</sup>鑄造された時代の天皇である、天武天皇について説明した文として正しいものを次の1～4から一つ選び、番号で答えなさい。

- 1 国を安らかにするために奈良の東大寺に大仏を造立した。
- 2 <sup>じんしん</sup>壬申の乱で<sup>おい</sup>甥の大友皇子との争いに勝利し天皇となった。
- 3 中国にならい大宝律令を制定し、国内の法整備を行った。
- 4 天皇に権力を集中させるため中臣鎌足とともに蘇我氏を滅ぼした。

問5 下線部(オ)に関連して、日本の税制度について説明した文として誤っているものを次の1～4から一つ選び、番号で答えなさい。

- 1 奈良時代に租は口分田の広さに応じて納め、<sup>よう</sup>庸は労役の代わりに布を納めた。
- 2 室町時代には幕府や寺社が要地に関所を設置して税をあつめた。
- 3 太閤検地によって農民は納税の義務を負い、荘園制が確保された。
- 4 明治時代には地租への反対一揆が各地で発生し、税率が地価の2.5%に引き下げられた。

問6 下線部(カ)の調印時の首相として正しいものを次の1～4から一つ選び、番号で答えなさい。

- 1 田中角栄
- 2 三木武夫
- 3 <sup>たけお</sup>福田赳夫
- 4 佐藤栄作

問7 下線部(キ)の説明文として正しいものを次の1～4から一つ選び、番号で答えなさい。

- 1 三重県の四日市の石油コンビナートから排出される二酸化硫黄により発生した。
- 2 栃木県の渡良瀬川流域で付近の工場から排出される鉱毒により発生した。
- 3 富山県の神通川付近の工場の廃水中のカドミウムによって発生した。
- 4 新潟県の阿賀野川付近の工場の廃水中の水銀によって発生した。

問8 下線部(ク)に関連して、日本がサンフランシスコ平和条約と同時に結んだ軍事的行動に関する条約を解答らんにあうように漢字6字で答えなさい。

問9 下線部(ケ)は藤原氏の子孫である。藤原氏の摂関政治が盛んだった時代について説明した文として誤っているものを次の1～4から一つ選び、番号で答えなさい。

- 1 藤原頼通の補佐をうけ白河上皇は院政を始めた。
- 2 藤原道長は4人の娘を天皇の后にして権力を握った。
- 3 関東では平将門の乱、瀬戸内では藤原純友の乱がおきた。
- 4 国司になっても任国に行かない者があらわれ、地方政治が乱れた。

問10 下線部(コ)に関連して、中国と日本の関係について説明した文として正しいものを次の1～4から一つ選び、番号で答えなさい。

- 1 飛鳥時代に中国から直接、日本の天皇に儒教や仏教が伝えられた。
- 2 奈良時代に空海や最澄は遣唐使とともに唐へ留学した。
- 3 室町時代に日明貿易で中国から銅銭や生糸を輸入した。
- 4 江戸時代に中国は将軍の代替わりごとに通信使を派遣した。

問11 下線部(サ)に関わる法律が制定される直前に、社会主義運動や労働運動をとりしめし、天皇を中心とする国家体制を否定する結社や行動を禁止した法律名を解答らんにあうように漢字4字で答えなさい。

問12 下線部(シ)について、あとの問いに答えなさい。

(1) 米騒動の前後に起きた出来事を古い順に並べたものとして正しいものを次の1～4から一つ選び、番号で答えなさい。

- 1 韓国併合 → 第一次世界大戦の開始 → 日英同盟の締結 → 関東大震災
- 2 関東大震災 → 日英同盟の締結 → 韓国併合 → 第一次世界大戦の開始
- 3 第一次世界大戦の開始 → 関東大震災 → 日英同盟の締結 → 韓国併合
- 4 日英同盟の締結 → 韓国併合 → 第一次世界大戦の開始 → 関東大震災

(2) この出来事の直後に首相となり、「平民宰相」といわれた人物を漢字で答えなさい。



(問題は次のページに続く)

3 2017年に起きた出来事をまとめた下の表を見て、あとの問いに答えなさい。

1月20日	第45代アメリカ合衆国大統領に <input type="text" value="A"/> 党のトランプ氏が就任した。
2月10日	日本の <input type="text" value="B"/> 首相がトランプ大統領と首脳会談を行った。
5月9日	韓国大統領選挙で <input type="text" value="C"/> が当選した。
5月15日	(ア) <u>沖縄県</u> が本土復帰をして45年を迎えた。
5月27日	(イ) <u>南スーダン</u> で国連平和維持活動に参加していた陸上自衛隊が帰国し、約5年間にわたる活動が終了した。
6月9日	衆議院の (ウ) <u>一票の格差是正のための改正公職選挙法</u> が (エ) <u>参議院本会議</u> において可決し成立した。 (オ) <u>天皇陛下の退位を認める特例法</u> が参議院本会議において可決し成立した。
7月2日	(カ) <u>東京都都議会議員選挙</u> が実施された。
8月29日	北朝鮮のミサイルが発射された直後、(キ) <u>全国瞬時警報システム</u> を使って、政府が自治体や住民等に警戒や避難を呼びかけた。
10月6日	社員に違法な残業をさせたとして、法人としての電通が罪に問われた (ク) <u>裁判</u> で、東京簡易裁判所は求刑通り同社に罰金50万円を言い渡した。
10月20日	神戸製鋼所の子会社で生産された製品の中に (ケ) <u>日本工業規格</u> を満たしていないものがあることが判明した。

問1 空らん  にあてはまる語句を次の1～4から一つ選び、番号で答えなさい。

- 1 民主            2 保守            3 自由            4 共和

問2 空らん  にあてはまる人物の姓名を漢字で答えなさい。

問3 空らん  にあてはまる人名を次の1～4から一つ選び、番号で答えなさい。

- 1 ムン・ジェイン 文在寅    2 パン・ギムン 潘基文    3 パク・クネ 朴槿恵    4 イ・ミョンバク 李明博

問4 下線部 (ア) について説明した文 a・b の正誤の組合せとして正しいものを次の1～4から一つ選び、番号で答えなさい。

- a 太平洋戦争終戦間際、広島に原子爆弾が投下された後、アメリカ軍が沖縄本島に上陸し、島民を巻きこむ戦闘が開始された。  
b 佐藤栄作が内閣総理大臣の時に沖縄返還協定が調印され、返還が実現した。

- 1 a－正 b－正    2 a－正 b－誤    3 a－誤 b－正    4 a－誤 b－誤

問5 下線部（イ）について説明した文として正しいものを次の1～4から一つ選び、番号で答えなさい。

- 1 南米大陸に位置する南スーダンがスーダンと分離独立後も対立し、紛争が絶えない。
- 2 自衛隊の国連平和維持活動への参加はカンボジアへの派遣が最初である。
- 3 国連平和維持活動はUNCTADという略称で呼ばれ、停戦の監視などを行う。
- 4 陸上自衛隊の最高指揮権は、選挙で選ばれた衆議院議員である防衛大臣がもつ。

問6 下線部（ウ）について2014年12月の衆議院議員選挙では一票の格差は最大何倍であったか、一番近い数字を次の1～4から一つ選び、番号で答えなさい。

- 1 1.6倍      2 2.1倍      3 3.4倍      4 4.7倍

問7 下線部（エ）について説明した文 a・b の正誤の組合せとして正しいものを次の1～4から一つ選び、番号で答えなさい。

- a 内閣不信任案の決議や、憲法改正の発議が可能である。  
b 任期は6年で、3年ごとに半数を改選し、被選挙権は満30歳以上である。

- 1 a－正 b－正    2 a－正 b－誤    3 a－誤 b－正    4 a－誤 b－誤

問8 下線部（オ）の国事行為として誤っているものを次の1～4から一つ選び、番号で答えなさい。

- 1 内閣総理大臣の任命      2 衆議院の解散  
3 条約や法律の公布      4 予算案の国会への提出

問9 下線部（カ）に関連して、地方議会の首長の解職をもとめるために必要な手続きとして正しいものを次の1～4から一つ選び、番号で答えなさい。

- 1 有権者の50分の1以上の署名を集め、首長に請求する。
- 2 有権者の50分の1以上の署名を集め、選挙管理委員会に請求する。
- 3 有権者の3分の1以上の署名を集め、首長に請求する。
- 4 有権者の3分の1以上の署名を集め、選挙管理委員会に請求する。

問10 下線部（キ）の通称をアルファベットとカタカナを用いて答えなさい。

問11 下線部（ク）の日本の裁判制度について説明した文として正しいものを次の1～4から一つ選び、番号で答えなさい。

- 1 職務に適切な人間かを国民が審査する国民審査は最高裁判所の裁判官のみが対象となる。
- 2 裁判員制度の開始により、国民は刑事裁判と民事裁判に裁判員として参加できるようになった。
- 3 司法制度改革により、裁判官・弁護士になるためには法科大学院の修了が義務付けられた。
- 4 国会で制定された法律が憲法に違反しているかを審査する違憲立法審査権は最高裁判所のみを与えられている。

問12 下線部（ケ）を示すマークを次の1～4から一つ選び、番号で答えなさい。



1



2



3



4