

2019年度 入学試験問題

社 会

(第2回)

[注意]

1. 試験開始の合図があるまで、この問題冊子の中を見てはいけません。
2. 解答用紙は、問題冊子の中にはさんであります。試験開始の合図があったら、解答用紙を取り出して受験番号と氏名を記入し、QRコードシールをはりなさい。
3. 解答はすべて解答用紙に記入しなさい。特に指定がない場合は、ひらがなで構いません。
4. 問題冊子の余白等は自由に使って構いません。
5. 試験終了後、解答用紙のみ提出し、問題冊子は持ち帰りなさい。

1 次の文章を読んで、あとの問いに答えなさい。

平成30年、北海道はその命名から150年目の節目を迎え、「北海道150年事業」として道内外でさまざまな取り組みが行われました。北海道はかつて 地と呼ばれていましたが、明治2年7月17日に、松浦武四郎が「北加伊道」を含む6つの名前を候補とする意見書を明治政府へ提案し、その後8月15日に、太政官布告によって「北海道」と命名されました。

日本の端に位置する北海道は国土面積の約 分の1を占め、北見山地と日高山脈を境に大きく東西に分けられます。(ア) 東部には十勝平野や根釧台地が、西部は石狩平野などの低地がそれぞれ広がり、国内でも大規模な農牧業が行われています。そのため、(イ) おもな農産物の生産量に占める北海道の割合は全国上位となる品目が多くみられます。また、(ウ) 周囲を3つの海に囲まれ、周辺に豊かな漁場が広がることから、(エ) 漁業もさかんに行われています。

北海道内で生産される農畜産物や水産物を加工する食品工業も発達しており、さまざまなブランドが確立しています。中には、農畜産物や水産物の生産者が食品工業に乗りだし、販売までを手がけることで収入を大きく増加させようと取り組む人々もあらわれています。このような新しい産業のスタイルは 次産業化ともいわれ、1次産業に取り組む若い人々から注目されています。

問1 文中の空らん ～ にあてはまる語句・数字をAは漢字2字、B・Cは算用数字で答えなさい。

問2 下線部(ア)について、次のA～Cは、北海道各地の農牧業の特徴を示したもので、それぞれ石狩平野、根釧台地、十勝平野のいずれかを説明したものです。A～Cの文と各地域の正しい組合せを下の1～6から一つ選び、番号で答えなさい。

- A 作物栽培には不向きな火山灰の土壌と海霧による夏の低温によって、大規模な酪農が発展した地域
- B 泥炭地が広がっていたが、水路の整備や土壌の改良に努めて稲作が発展した地域
- C 広大な原野を切りひらき、大型の農業機械を用いて大規模な畑作が発展した地域

	1	2	3	4	5	6
A	石狩平野	石狩平野	十勝平野	十勝平野	根釧台地	根釧台地
B	十勝平野	根釧台地	石狩平野	根釧台地	石狩平野	十勝平野
C	根釧台地	十勝平野	根釧台地	石狩平野	十勝平野	石狩平野

問3 下線部（イ）について、次の1～4の表は北海道が生産上位を占める農産物を示したもので、それぞれ、あずき、かぼちゃ、たまねぎ、生乳のいずれかがあてはまります。生乳にあたるものを次の1～4から一つ選び、番号で答えなさい。

1	
北海道	67.9%
兵庫	7.0
佐賀	6.8
その他	18.3
国内生産量	124.3万 t

2	
北海道	52.5%
栃木	4.4
熊本	3.4
その他	39.7
国内生産量	737.9万 t

3	
北海道	44.7%
鹿児島	4.9
茨城	4.4
その他	46.0
国内生産量	185.3万 t

4	
北海道	91.9%
京都	0.9
滋賀	0.1
その他	7.1
国内生産量	3.0万 t

(データでみる県勢 2018年版)

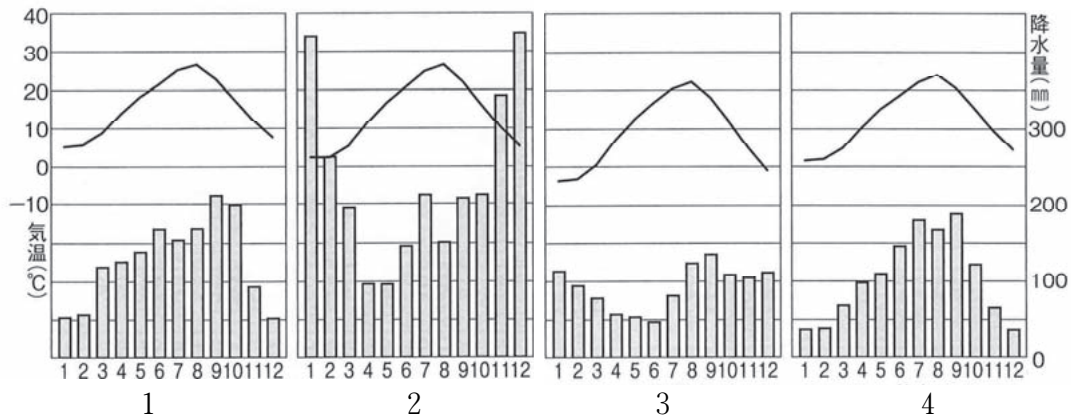
問4 下線部（ウ）について、北海道を取り囲む3つの海のうち、北海道の北東部に広がり、冬季には流水がみられる海域の名称を答えなさい。

問5 下線部（エ）について、次の表は国内の主な漁港の漁獲量と魚種を示したもので、表中の1～4は釧路、銚子、焼津、八戸のいずれかがあてはまります。釧路港にあてはまるものを表中の1～4から一つ選び、番号で答えなさい。

	漁獲量	主な魚種
1	27万5577 t	さば類、まぐろ類、さんま
2	15万 853 t	かつお類、まぐろ類
3	11万4489 t	すけそうだら、さば類、さんま
4	9万8776 t	さば類、するめいか

(水産物流通調査 2016年)

問6 次の1～4は各都市の気温と降水量を示したグラフで、札幌、仙台、高田(新潟県)、東京のいずれかがあてはまります。札幌にあてはまるものを1～4から一つ選び、番号で答えなさい。



問7 次の1～6の文は、北海道に関わる事柄を示したものです。文中の空らん ～ にあてまはる語句を答えなさい。

- 1 手つかずの自然がたくさん残り、貴重な生態系が評価されて、 半島周辺が世界自然遺産に認定された。
- 2 家族とともに農業開拓をしながら北方警備の任務も担う の移住が進み、その後、全国各地からの入植者が道内各地を開拓した。
- 3 先住民である のひとびとは、シャクシャインの戦いをきっかけに松前藩に服従させられた。
- 4 重要なエネルギー資源であった の産出が道内でかつてさかんに行われ、輸送を目的とした鉄道建設が行われた。
- 5 と樺太・千島交換条約を結び、わが国が樺太に持っていたいっさいの権利をゆずり、そのかわりに千島列島全域を領有した。
- 6 海峡を海底で結ぶ青函トンネルが開通して、本州と北海道が鉄道で結ばれた。

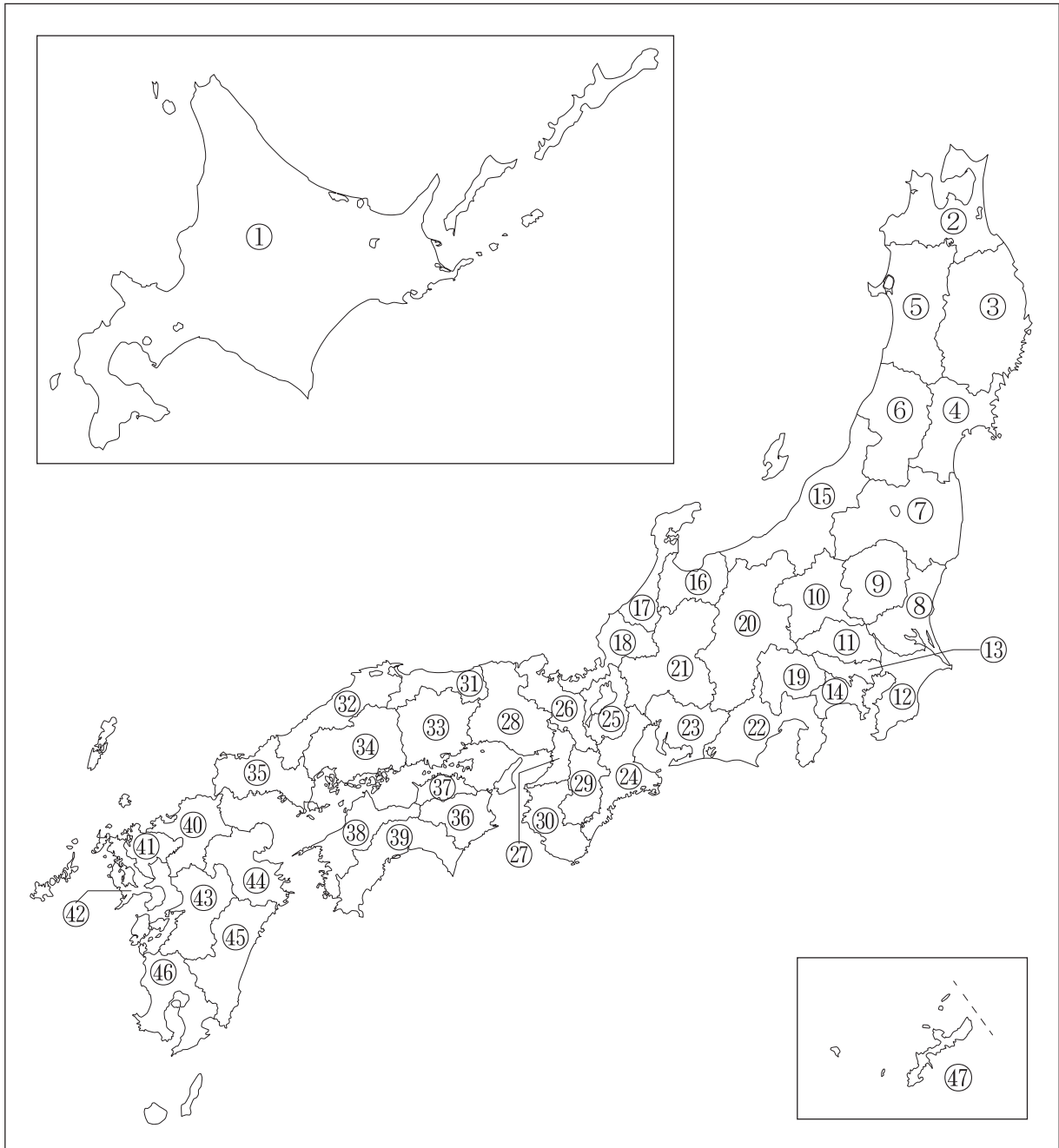
(問題は次のページに続く)

- 2 2018年6月に「長崎と天草地方の潜伏キリシタン関連遺産」が世界遺産に登録されたのをニュースで見たTさんは、長崎県へ旅行に行きました。旅行の途中で、長崎県の壱岐島にある「^{はる}原の^{つじ}辻遺跡」を見学しました。この遺跡のストーリーは2015年4月に「国境の島 壱岐・対馬・五島 ～古代からの架け橋～」として日本遺産に登録されていることを知りました。次の表は、Tさんが日本遺産についてまとめたものです。これを読んで、あとの問いに答えなさい。

申請者（代表自治体）	ストーリーのタイトル
長野県 （ ^{ちの} 茅野市、 ^{ふじ} 富士見町、 ^{はら} 原村、 ^{おかのや} 諏訪市、 ^{おかのや} 岡谷市、 ^{しも} 下諏訪町、 ^{ながわ} 長和町、 ^{かわかみ} 川上村）	星降る中部高地の ^(ア) 縄文世界 — ^{さかのぼ} 数千年を遡る黒曜石鉱山と縄文人に出会う旅—
熊本県 （ ^{やまが} 山鹿市、 ^{たまな} 玉名市、 ^{きくち} 菊池市、 ^{なごみ} 和水町）	米作り、二千年にわたる大地の記憶 ～ ^{きくち} 菊池川流域「今昔『 ^(イ) 水稲』物語」～
奈良県 （ ^{あした} 明日香村）	「 ^{そんせい} 日本国創成のとき — ^(ウ) 飛鳥を翔（かけ）た女性たち—
神奈川県 （ ^{けんそう} 鎌倉市）	「 ^(エ) いざ、鎌倉」 ～歴史と文化が描くモザイク画のまちへ～
岐阜県 （ ^{ぎふ} 岐阜市）	「 ^(オ) 信長公のおもてなし」が息づく戦国城下町・岐阜
福島県 （ ^{しらやま} 郡山市）	未来を拓いた「一本の水路」 — ^(カ) 大久保利通“最期の夢”と開拓者の軌跡 郡山・猪苗代—
群馬県（ ^{かんなら} 桐生市、 ^{かんら} 甘楽町、 ^{なかのじょう} 中之条町、 ^{かたしな} 片品村）	かかあ天下 — ^{ぐんま} ぐんまの ^(キ) 絹物語—

(文化庁HPより)

【略地図】



問1 下線部（ア）の時代の文化について説明した文 a・b の正誤の組合せとして正しいものを下の1～4から一つ選び、番号で答えなさい。

- a たて穴住居の近くには、人々が食べたあとの貝がらなどを捨てた貝塚が多くみられる。
 b 土器の基本形は深鉢形であり、うすでかたく簡素な模様のものが多い。

- 1 a－正 b－正 2 a－正 b－誤
 3 a－誤 b－正 4 a－誤 b－誤

問2 下線部（イ）について、次のA～Cは水稲耕作が生活の基盤となった弥生時代の代表遺跡です。A～Cの遺跡が存在する都道府県を【略地図】から選び、それぞれ番号で答えなさい。

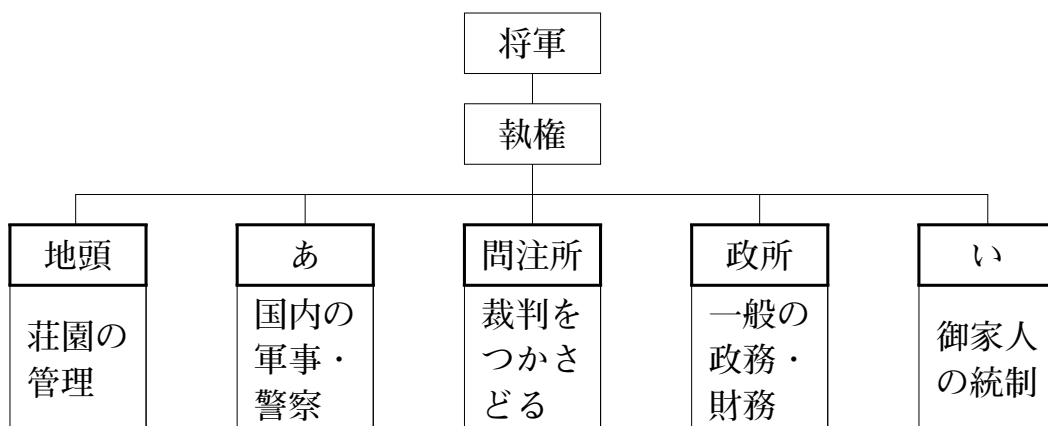
- A 日本屈指の大環濠集落である「吉野ヶ里遺跡」
 B 平地式の住居跡や多数の木製農具が出土した「登呂遺跡」
 C 358本の銅剣が出土した、丘陵上の遺跡である「荒神谷遺跡」

問3 下線部（ウ）について、次の問いに答えなさい。

- (1) 敏達天皇の後であり、最初の女性天皇となった人物を漢字で答えなさい。
- (2) 飛鳥文化について説明した文として正しいものを次の1～4から一つ選び、番号で答えなさい。
- 1 洒落と通を好む気風を反映した、粹で渋みのある町人文化である。
 - 2 現在の和室のルーツとなった書院造が有名である。
 - 3 広隆寺の弥勒菩薩像は、朝鮮半島と日本に文化的交流があったことを伝えるものである。
 - 4 国文学の発達により、かな文字が生まれた文化である。

問4 下線部（エ）について、次の問いに答えなさい。

- (1) 次の図は、鎌倉幕府のしくみをまとめたものです。図中の空らん【あ】・【い】にあてはまる機関を、それぞれ漢字で答えなさい。



- (2) 次のA～Cは、平氏と源氏と奥州藤原氏に関係する神社・寺院を説明したものです。A～Cが存在する都道府県を【略地図】から選び、それぞれ番号で答えなさい。

- | | |
|---|------------------------------------|
| A | 日宋貿易の船の安全を守る神として信仰され、平清盛が崇敬した神社 |
| B | 鎌倉幕府の3代将軍である源実朝が暗殺された神社 |
| C | 清衡・基衡・秀衡の奥州藤原3代の遺体が納められている御堂を有する寺院 |

問5 下線部(オ)について、次の問いに答えなさい。

- (1) 織田信長について説明した文として誤っているものを次の1～5からすべて選び、番号で答えなさい。

- 1 長篠の戦いで、武田勝頼軍の騎馬隊を大敗させた。
- 2 一向宗の石山本願寺と戦った。
- 3 商品取引の拡大を図った、楽市令を出した。
- 4 足利義尚をたてて京に入り、室町幕府を滅ぼした。
- 5 関ヶ原の戦いで、石田三成軍を破り勝利した。

- (2) 桶狭間の戦いがおこなわれた都道府県を【略地図】から選び、番号で答えなさい。

問6 下線部(カ)の人物は「維新の三傑」の1人に数えられます。大久保利通・西郷隆盛と残り1人の人物名を漢字で答えなさい。

問7 下線部(キ)について、2014年に「富岡製糸場と絹産業遺産群」が世界文化遺産に登録されましたが、富岡製糸場に指導者として雇われたフランス人として正しいものを次の1～4から一つ選び、番号で答えなさい。

- 1 ジャンヌ・ダルク
- 2 エマニュエル・マクロン
- 3 ジョルジュ・ピゴー
- 4 ポール・ブリューナ

3 平成の間に起きた出来事をまとめた次の年表を見て、あとの問いに答えなさい。

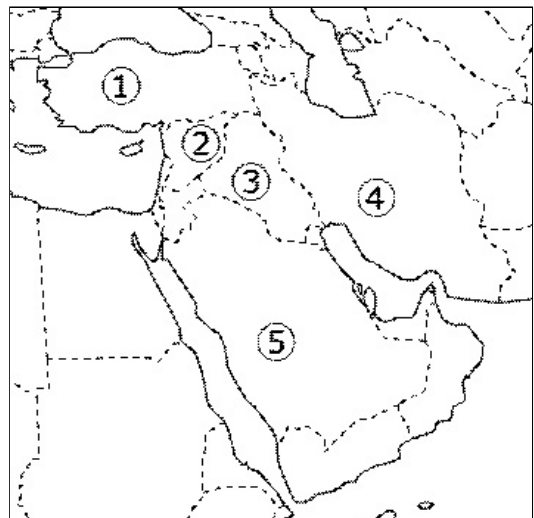
年	月	出来事
平成元年	1	「平成」の(ア)元号が発表される。
	7	参院選の結果、日本社会党が躍進し、(イ)与野党の議席が逆転する。
平成3年	1～2	湾岸戦争において、多国籍軍が(ウ)イラク軍を破る。
平成4年	9	カンボジアでの[エ]活動に自衛隊が派遣される。
平成9年	6	(オ)臓器移植法が成立する。
平成11年	6	男女共同参画社会基本法が公布される。
平成16年	5	(カ)裁判員法が成立する。
平成17年	6	天皇・皇后両陛下が[キ]を慰霊訪問する。
平成19年	5	(ク)憲法改正手続きに関する国民投票法が成立する。
平成22年	9	(ケ)尖閣諸島付近で、中国漁船衝突事件がおきる。
平成28年	5	オバマ大統領が[コ]を訪れる。
平成30年	4	(サ)南北首脳会談が行われる。

問1 下線部(ア)について、次の元号を年代順に並び替えた時に、3番目にあたるものを次の1～5から一つ選び、番号で答えなさい。

- 1 応仁 2 建武 3 天保 4 元禄 5 承久

問2 下線部(イ)について、衆議院と参議院で多数派が異なる現象を解答らんにあうように平がな3字で答えなさい。

問3 下線部(ウ)について、イラクの場所を右の地図中の1～5から一つ選び、番号で答えなさい。



問4 年表中の空らん にあてはまる、「国連平和維持活動」を意味するアルファベット3文字を次の1～4から一つ選び、番号で答えなさい。

- 1 NPO 2 PKO 3 NGO 4 WTO

問5 下線部(オ)について、その後の改正を経た、現在の臓器移植法について説明した文a・bの正誤の組合せとして正しいものを下の1～4から一つ選び、番号で答えなさい。

- a 臓器移植法の対象は心臓のみで、肺や腎臓^{じん}は対象外である。
b 15歳未満で本人の意思が不明な場合には、家族の承諾^{しょうだく}があっても脳死での臓器の提供は不可能である。

- 1 a－正 b－正 2 a－正 b－誤
3 a－誤 b－正 4 a－誤 b－誤

問6 下線部(カ)について、裁判員制度について説明した文a・bの正誤の組合せとして正しいものを下の1～4から一つ選び、番号で答えなさい。

- a 日本における裁判員制度は、国民の中から選ばれた裁判員が、有罪・無罪の判断から量刑の決定までを、裁判官とともに行う制度である。
b 裁判員制度の対象となるのは企業・政治家・公務員による汚職事件や、借金トラブルなどの民事事件など広範囲にわたる。

- 1 a－正 b－正 2 a－正 b－誤
3 a－誤 b－正 4 a－誤 b－誤

問7 年表中の空らん について、以下の文章を参考に、あてはまる語句を下の1～4から一つ選び、番号で答えなさい。

- ・現在この島はアメリカ領である。
- ・太平洋戦争時に、この島の陥落により、米軍機による本土空襲が激化した。

- 1 ハワイ諸島 2 ルソン島 3 サイパン島 4 硫黄島

問8 下線部(ク)について説明した文a・bの正誤の組合せとして正しいものを下の1～4から一つ選び、番号で答えなさい。

- a 憲法改正には国会両院の過半数の賛成のほかに国民投票の過半数の賛成が必要とされる。
b 国民投票法では憲法改正における投票権を20歳以上の男女に限定している。

- 1 a－正 b－正 2 a－正 b－誤
3 a－誤 b－正 4 a－誤 b－誤

問9 下線部(ケ)について、尖閣諸島がある沖縄県について説明した文a・bの正誤の組合せとして正しいものを下の1～4から一つ選び、番号で答えなさい。

- a 中世において、琉球王国が栄えており、中国や東南アジアとの中継貿易なかつぎで繁栄した。
b 1971年に佐藤栄作首相が沖縄返還協定に調印し、翌年、沖縄の日本復帰が実現した。

- 1 a－正 b－正 2 a－正 b－誤
3 a－誤 b－正 4 a－誤 b－誤

問10 以下の文章を参考に年表中の空らん にあてはまる都市名を漢字で答えなさい。

- ・市の中心部を流れる川の河口に開けた三角州上に市街地が形成されている。
- ・人口100万人を超える、政令指定都市である。

問11 下線部(サ)について、会談を行った北朝鮮の指導者と韓国の大統領の名前をそれぞれカタカナで答えなさい。

問12 平成の時代に起きた以下の出来事を年代順に並びかえた時に、3番目にあたるものを次の1～4から一つ選び、番号で答えなさい。

- 1 阪神・淡路大震災 2 東日本大震災
3 リーマンショック 4 ベルリンの壁の崩壊

