

2019年度 入学試験問題

社 会

(第3回)

[注意]

1. 試験開始の合図があるまで、この問題冊子の中を見てはいけません。
2. 解答用紙は、問題冊子の中にはさんであります。試験開始の合図があったら、解答用紙を取り出して受験番号と氏名を記入し、QRコードシールをはりなさい。
3. 解答はすべて解答用紙に記入しなさい。特に指定がない場合は、ひらがなで構いません。
4. 問題冊子の余白等は自由に使って構いません。
5. 試験終了後、解答用紙のみ提出し、問題冊子は持ち帰りなさい。

- 1 太郎くんは夏休みに学校行事で長野県に行きました。それに関する文章を読んで、あとの問いに答えなさい。

(ア)長野県には(イ)八ヶ岳・^{たてしなやま}蓼科山・^{きりがみね}霧ヶ峰・^{しらかぼこ}白樺湖など人気の観光地がたくさんあります。太郎くんは学校のある世田谷区からバスに乗りました。前日まで関東甲信越の広い地域で(ウ)大雨・洪水注意報が出ていました。しかし出発当日には雲一つない空となりました。

バスは中央自動車道を通り、(エ)山梨県にあるサービスエリアで休憩をとりながら長野県に行きました。この日は(オ)茅野市尖石^{ちの とがりいし}縄文考古館^{おとず}を訪れました。ここには縄文時代の出土品がたくさんあり、縄文文化を体験学習することができました。

2日目は車山高原に行きました。車山は標高1,900mの小高い山で、山頂には気象レーダーがあります。太郎くんは山頂まで登り、そこから八島ヶ原^{やしまがほら}(カ)湿原^{しつげん}に向かいました。太郎くんが歩いた道は環境を守るための木道や植物をシカから守るためのフェンスが設置されていました。

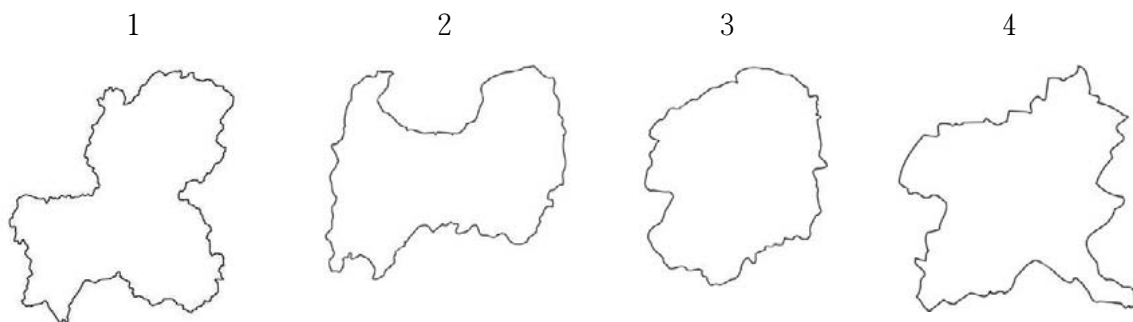
3日目は朝から観光地めぐりをしました。最初に訪れたのは諏訪大社でした。この神社は日本最古の神社の一つとされ、(キ)『古事記』にもその名前がのっています。また神社は4か所に分かれており、諏訪湖南東^{かみしやほんみや}の上社本宮に行きました。諏訪大社は平安時代に坂上田村麻呂^{えぞ}が蝦夷征伐の時に戦勝祈願をしたとされています。神社は鎌倉時代になると源頼朝に、戦国時代には武田信玄、江戸時代には徳川家光など、時の権力者に保護され続けました。ほかにも諏訪湖周辺は明治時代から(ク)工業が栄えてきたそうです。

3泊4日という日程でしたが、自然学習、歴史学習などのプログラムを体験でき、充実した楽しい学校行事となりました。

問1 下線部(ア)について、あとの問いに答えなさい。

- (1) 長野県が接していない県を表す地図を次の1～4から一つ選び、番号で答えなさい。

※方位と縮尺は一定ではありません。



- (2) 【表1】が示す長野県が生産量第1位となっている農産物を下の1～4から一つ選び、番号で答えなさい。

【表1】

		t	%
1位	長野	205,800	35.1
2位	茨城	86,100	14.7
3位	群馬	50,400	8.6
4位	長崎	36,100	6.2
5位	兵庫	28,500	4.9

(『日本のすがた2018』より作成)

- 1 トマト 2 はくさい 3 キャベツ 4 レタス

- (3) 長野県などにある「日本の屋根」と言われる日本アルプスについて説明した文として、正しいものを次の1～4から一つ選び、番号で答えなさい。

- 1 全長約500kmで日本最長といわれる山脈があり、けわしい峠が多くある。
- 2 日本最大のブナの原生林におおわれており、世界自然遺産にも登録されている。
- 3 天竜川と木曾川の間^{きそ}にあり、駒ヶ岳^{こま}をはじめ標高の高い山が多くある。
- 4 石灰岩が雨水によって浸食^{しんしょく}された日本最大の台地がある。

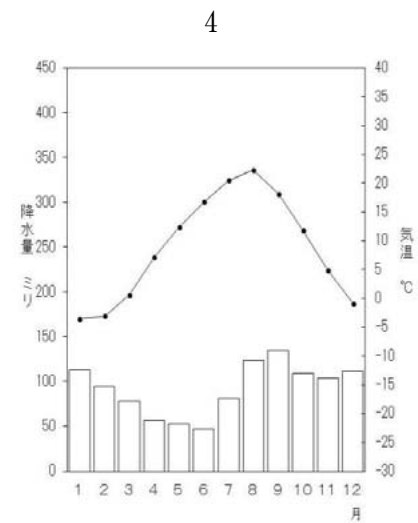
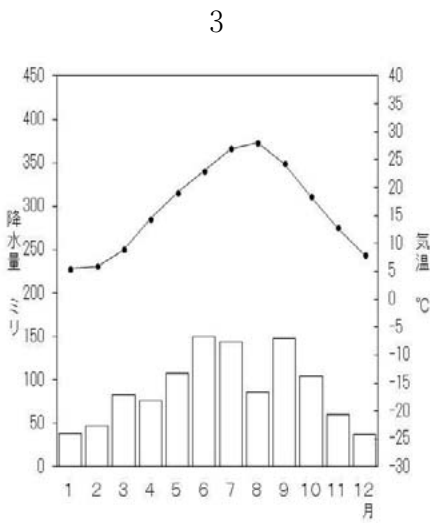
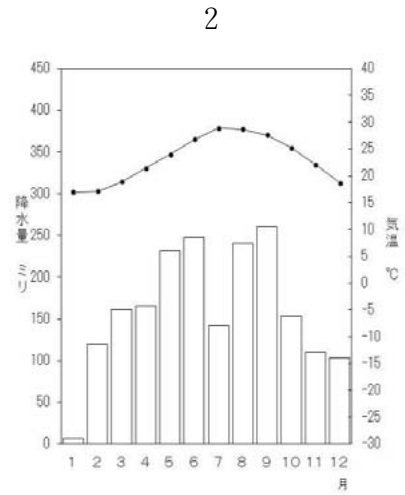
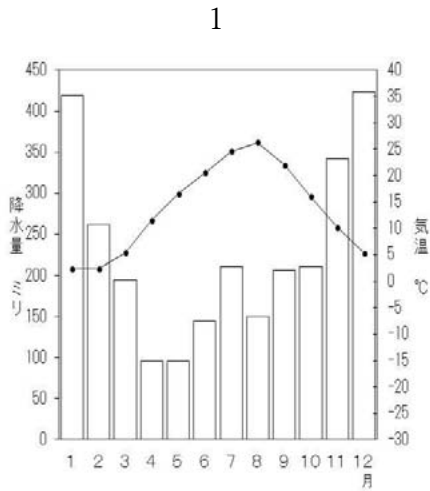
- 問2 下線部(イ)に関連して、火山の爆発によってできたカルデラ湖として、正しいものを次の1～4から一つ選び、番号で答えなさい。

- 1 サロマ湖 2 十和田湖 3 霞ヶ浦^{かすみ} 4 宍道湖^{しんじ}

- 問3 下線部(ウ)に関連して、洪水などの自然災害について、その被害の及ぶ範囲、避難場所などを表した予測図の名前をカタカナ7字で答えなさい。

問4 下線部(エ)について、あとの問いに答えなさい。

- (1) 次の沖縄県、北海道、新潟県、山梨県の道庁所在地の雨温図のうち、山梨県のを下の1～4から一つ選び、番号で答えなさい。



(気象庁ホームページより作成)

- (2) 【表2】が示す山梨県が生産量第1位となっている農産物を次の1～4から一つ選び、番号で答えなさい。

【表2】

		t	%
1位	山梨	39,900	31.3
2位	福島	29,300	23.0
3位	長野	16,100	12.6
4位	和歌山	9,870	7.8
5位	山形	9,180	7.2

(『日本のすがた2018』より作成)

- 1 りんご 2 ぶどう 3 さくらんぼ 4 もも

問5 下線部(オ)に関連して、縄文時代について、あとの問いに答えなさい。

- (1) この考古館に収蔵しゅうぞうされていた【写真1】のような出土品の名前を漢字2字で答えなさい。

【写真1】



(『新版 新しい歴史教科書』自由社より)

- (2) 縄文時代の生活の様子について誤っているものを次の1～4から一つ選び、番号で答えなさい。

- 1 土器にはいろいろな形があり、低温で焼かれた厚手のものが主に使用された。
- 2 大森貝塚に見られるように、海に面した場所では魚介類も食べていた。
- 3 祭り用の青銅器、武器や農具などの鉄器を用いるようになった。
- 4 三内丸山遺跡に見られるように、人々は集落をつくりくらしていた。

問6 下線部(カ)に関連して、あとの問いに答えなさい

- (1) 湿原を守るために1971年に採択された国際条約の名前を解答らんにあうようにカタカナ5字で答えなさい。
- (2) (1)の条約に日本で最初に登録された湿原がある都道府県名を次の1～4から一つ選び、番号で答えなさい。

1 沖縄県 2 宮城県 3 鳥取県 4 北海道

問7 下線部(キ)の説明文として正しいものを次の1～4から一つ選び、番号で答えなさい。

- 1 諸国の地名の由来・地形・産物・伝説などを記したもの。
- 2 仏教などの影響をうけ、役人が守るべき規則を記したもの。
- 3 天皇家を中心とした歴史書で神話や伝説を含んでいるもの。
- 4 皇族・貴族から農民、広い地域の人々の歌をまとめたもの。

問8 下線部(ク)に関連して、長野県の産業の説明文として正しいものを次の1～4から一つ選び、番号で答えなさい。

- 1 戦前は製糸業、戦後は時計やカメラなど精密機器の生産が盛んである。
- 2 戦後、自動車と楽器の生産が盛んとなり、世界的なメーカーが誕生した。
- 3 明治時代からタオルの生産が盛んとなり、高級ブランドとして有名である。
- 4 江戸時代から綿の栽培がさかんで、学生服の生産量が日本一である。

(問題は次のページに続く)

2 次のA～Dの写真と文について、あとの問いに答えなさい。

A



左の写真は(ア)豊臣秀吉が朝鮮に攻め入るにあたり、その拠点として築いた城の本丸を写したものです。奥の木のある小高い部分が天守閣のあった場所で、天気の良いときには(イ)玄界灘にうかぶ を望むことができるそうです。

手前の大きな石碑は、(ウ)日露戦争で活躍した東郷平八郎の揮毫*による「名護屋城址」の碑です。

*揮毫…筆で書や絵をかくこと

問1 文中の空らん にあてはまる語句を次の1～4から一つ選び、番号で答えなさい。

- 1 隠岐 2 壱岐 3 種子島 4 奄美大島

問2 下線部(ア)について、豊臣秀吉の政策について説明した文a・bの正誤の組合せとして正しいものを下の1～4から一つ選び、番号で答えなさい。

- a ものさしや^{ます}枘を統一して検地を行い、全国の土地の生産力を米で換算するようになった。
b 大名の居城を一つに限り、さらに刀狩令を制定して大名の軍事力をきびしく統制した。

- 1 a－正 b－正 2 a－正 b－誤
3 a－誤 b－正 4 a－誤 b－誤

問3 下線部(イ)について、玄界灘に関連して説明した文a・bの正誤の組合せとして正しいものを下の1～4から一つ選び、番号で答えなさい

- a 政府のきびしい基準に合格して2018年3月に再稼働した九州電力玄海原発の3号機は、配管から蒸気漏れをおこして発電と送電を一時停止した。
b 対馬海流というあたたかい海流が流れており、アジやタイなどを網でとる漁船を使用した漁業が発展している。

- 1 a－正 b－正 2 a－正 b－誤
3 a－誤 b－正 4 a－誤 b－誤

問4 下線部(ウ)について、日露戦争のころの日本の輸出品の第1位は何ですか。次の1～4から一つ選び、番号で答えなさい。

- 1 緑茶 2 綿花 3 機械類 4 生糸

B



左の写真は佐賀県菜畑遺跡^{なばたけ}を写したものです。菜畑では、今から2500～2600年前の(エ)縄文時代晩期に、大陸から伝えられた(オ)稲作を日本で初めて行いました。

この遺跡からは、水田跡や炭化した米、稲穂をつみとる [2] などが発見されました。写真の奥の建物は人びとがくらしした [3] を復元したものです。

この遺跡のある地域には、魏志倭人伝に出てくる「末盧国」^{まつろこく}があったと考えられています。

問5 文中の空らん [2] ・ [3] にあてはまる語句を、解答らんの字数にしたがってそれぞれ漢字で答えなさい。

問6 下線部(エ)について、縄文時代の人びとのくらしについて説明した文 a ・ b の正誤の組合せとして正しいものを下の1～4から一つ選び、番号で答えなさい。

- a 縄文時代の人びとは、弓矢を用いてナウマンゾウやオオツノジカなどの大型動物を捕らえてくらししていた。
- b 縄文時代の人びとは、のぼりがまで高温で焼いた縄文土器を用いて、煮炊き^{にた}や食料の保存をした。

- 1 a－正 b－正 2 a－正 b－誤
- 3 a－誤 b－正 4 a－誤 b－誤

問7 下線部(オ)について、日本の稲作について述べた次の1～4の文を、年代順に並べ替えなさい。

- 1 畿内や西日本一帯では米と麦の二毛作が普及していった。
- 2 草木の灰や下肥とよばれる人糞尿などが肥料として使われるようになった。
- 3 農民に口分田を配るため、碁盤の目状に区画された水田がつくられた。
- 4 脱穀用の千歯扱や深く耕す備中ぐわなどの農具の使用が広まった。

C



左の写真は(カ)鎌倉幕府が 4 軍の襲来を防ぐためにつくった石塁(防塁)の跡です。御家人の竹崎季長ら九州地方の武士がよく戦い、 4 軍の侵攻をくい止めました。

しかし、幕府は御家人に十分な恩賞を与えることができなかったため、(キ)生活が苦しくなる御家人もあらわれるようになりました。

問8 文中の空らん 4 にあてはまる国の名を漢字で答えなさい。

問9 下線部(カ)について、鎌倉幕府が設置した政治機関として誤っているものを、次の1～4から一つ選び、番号で答えなさい。

- 1 京都所司代
- 2 侍所
- 3 政所
- 4 問注所

問10 下線部(キ)について、生活が苦しくなった御家人を救うために鎌倉幕府が出した法令を、解答らんの字数にしたがって答えなさい。

D



左の写真は、2015年に(ク)世界文化遺産に登録された三池炭鉱の万田坑を写したものです。写真の左手のやぐらは、地下数百メートルにある石炭を掘る坑夫を下ろすエレベーターがあった場所です。

日本の産業革命と(ケ)第二次世界大戦後の復興を支えた三池炭鉱は、革命に直面してリストラが行われ、1960年前後に大規模なストライキが起こりました。

三池炭鉱がある福岡県大牟田市・熊本県荒尾市は海に面しており、荒尾干潟が「渡り鳥のオアシス」として知られています。

問11 文中の空らんにあてはまる語句はカタカナで、空らんにあてはまる語句は漢字でそれぞれ答えなさい。

問12 下線部(ク)について、世界文化遺産について説明した文a・bの正誤の組合せとして正しいものを下の1～4から一つ選び、番号で答えなさい。

- a 世界文化遺産の登録を行うのは、国際連合教育科学文化機関(ユネスコ)である。
- b 日本で最初に世界文化遺産に登録されたのは、原爆ドームと巖島神社^{いつくしま}である。

- 1 a－正 b－正
- 2 a－正 b－誤
- 3 a－誤 b－正
- 4 a－誤 b－誤

問13 下線部(ケ)について、第二次世界大戦後の出来事として誤っているものを次の1～4から一つ選び、番号で答えなさい。

- 1 ラジオ放送が始まり、ラジオ劇やスポーツの実況中継が人気を呼んだ。
- 2 湯川秀樹が日本人としてはじめてノーベル賞を受賞した。
- 3 安売りと品ぞろえのよさを武器にスーパーマーケットが成長した。
- 4 推理小説の松本清張、歴史小説の司馬遼太郎ら人気作家が登場した。

3 次の文を読み、以下の問いに答えなさい。

はじめに

(ア) 2019年〇月〇日、「平成」が終わります。

おそらく世界の多くの人たちは、過去を振り返るとき1世紀単位で考えるのでしょう。しかし、日本人は「元号単位」で考えます。元号が変わることによって、確実に日本人の気持ちも、時代の空気も変わります。(中略)

明治時代、日本は富国強兵や(イ) 殖産興業をスローガンとして、懸命に近代化を進めていきました。長い間、鎖国をしているうちにすっかり世界に取り残されていたまことに小さな国が、欧米列強に伍するほどの大国になっていく。(ウ) 世界の一等国の仲間入りを果たした明治という時代を「日本の青春時代」と呼ぶ人もいます。

大正時代は、わずか15年で幕を閉じました。しかし「大正ロマン」などといわれるように、日本文化と西洋文化がまじり合う時代。文明開化後、西洋文化を次々に取り入れ、文化面で花開いた時代といえます。また、「大正デモクラシー」という言葉もあるように、(エ) 普通選挙や(オ) 政党政治など、政治面でも発展した時代です。

昭和時代は64年までありました。初期はまさに暗黒の時代でした。日本が無謀な戦争を仕掛け、ついには(カ) 原爆を落とされ、多くの人の命が失われました。

しかしこの敗戦を経て、日本は世界に例のない(キ) 高度経済成長期に入っていきます。とくに1980年代から1990年代初頭の好景気をバブル時代と呼び、株価もどんどん上がっていきました。(中略)

しかし、平成に入ると空気は一変しました。バブルがはじけた後に、「あれはバブルだったんだ」とわかります。バブルの最中は誰もが「空前の好景気」と思っていたのです。

一方、海外ではちょうど平成の始まりと共に(ク) 東西冷戦が終わりました。日本の新たな元号「平成」の通り、冷戦が終わり世界は平和になると期待したのですが、現実は逆でした。(中略)

イラクによるクウェート侵攻、それに続く(ケ) 湾岸戦争、ユーゴスラビアの内戦……、東西冷戦の終結は、新たな諍いを生み出しました。

世界を大きく揺るがしたのが、9.11アメリカ同時多発テロです。アメリカは報復のためアフガニスタンを攻撃、さらにイラクも攻撃します。

戦後、(コ) 「戦争放棄」を誓った日本は、安保条約を結んでいるアメリカに言われるままに再び戦争に巻き込まれるのではないか。それを心配する人たちがいて、自衛隊のイラク派遣は、国内で大きな論争を巻き起こしました。

(カ) 安全保障の問題は、大きく平成の世に影を落とし、現在も論争が続いています。

経済面ではどうでしょう。バブルが崩壊してもう30年近くにもなるのに、日本はまだ長い(シ) デフレのトンネルから抜け出せずにいます。

これらは、東西冷戦の終結と無関係ではありません。冷戦の終結により、(中略) 人、モノ、カネ、情報が国境を越えて自由に行き来できるようになりました。目に見えない壁が取り払われたことが、現在の日本の閉塞感に大きく関係しています。(以下略)

池上彰『池上彰の世界から見る 平成史』角川新書 (2018年)

問1 下線部（ア）について、平成が終わるのは何月何日ですか。解答らんにあうように、算用数字で答えなさい。

問2 下線部（イ）について、2015年に世界遺産に登録された「明治日本の産業革命遺産」として誤っているものを次の1～4から一つ選び、番号で答えなさい。

- 1 韮山反射炉 2 官営八幡製鉄所 3 石見銀山 4 松下村塾

問3 下線部（ウ）について、次の1～5の出来事を年代が古い順に並べ替えたとき、3番目にくるものを一つ選び、番号で答えなさい。

- 1 ポーツマス条約 2 日英同盟の締結 3 関税自主権の回復
4 治外法権の撤廃 5 大日本帝国憲法の発布

問4 下線部（エ）について、現在の国政選挙に関する文として、内容が誤っているものを次の1～4からすべて選び、番号で答えなさい。

- 1 衆議院議員選挙は4年ごとに、参議院議員選挙は6年ごとに実施される。
2 参議院議員選挙の比例代表選挙では、有権者は候補者か政党のいずれかに投票できる。
3 2016年、選挙権年齢が20歳以上から18歳以上に引き下げられた。
4 2019年1月現在、衆議院の定数は242名、参議院の定数は465名となっている。

問5 下線部（オ）について述べた文として、内容が正しいものを次の1～4からすべて選び、番号で答えなさい。

- 1 1918年、原敬を内閣総理大臣として、本格的政党内閣が成立した。
2 1932年、二・二六事件によって犬養毅内閣が倒れ、政党政治が途絶えた。
3 1955年から1993年まで、自由民主党と日本社会党が交互に政権を担当した。
4 2019年1月現在、自由民主党は公明党と連立政権を組んでいる。

問6 下線部（カ）について、2017年、122の国と地域が賛成して採択された条約の名称を漢字で答えなさい。ただし、核保有国や日本はこの条約に不参加である。

問7 下線部（キ）について、この期間中におこった出来事として誤っているものを、次の1～5から二つ選び、番号で答えなさい。

- 1 東海道新幹線が開通した。
- 2 阪神淡路大震災が発生した。
- 3 沖縄が日本に返還された。
- 4 国鉄や電電公社が民営化された。
- 5 公害対策基本法が制定された。

問8 下線部（ク）について、1989年に開催されたアメリカ大統領ブッシュ（父）とソ連のゴルバチョフ書記長の冷戦終結についての話し合いを何と呼ぶか答えなさい。

問9 下線部（ケ）について、この戦争における国際協力のあり方が問題となって、翌年から自衛隊の海外派遣を可能とする法律が制定されました。この法律の名称を、解答らんにあうようにアルファベットで答えなさい。

問10 下線部（コ）について、次の憲法9条の条文 ～ にあてはまる語句を、それぞれ漢字で答えなさい。

- (1) 日本国民は、正義と秩序を基調とする国際平和を誠実に希求し、国権の発動たる戦争と、 による威嚇又は の行使は、国際紛争を解決する手段としては、永久にこれを放棄する。
- (2) 前項の目的を達するため、陸海空軍その他の は、これを保持しない。国の は、これを認めない。

問11 下線部（サ）について、2014年に政府は憲法解釈の変更を閣議決定し、翌年には安全保障関連法が成立しました。この結果、日本はそれまで憲法上、行使できないとされていた権利を部分的ながら行使できるようになりました。この権利を何と呼ぶか漢字で答えなさい。

問12 下線部（シ）について述べた文として、内容が正しいものを次の1～4から一つ選び、番号で答えなさい。

- 1 景気が悪化しているにもかかわらず、物価が上昇していく現象。
- 2 物価が継続的に上昇を続け、貨幣価値が低下していく現象。
- 3 物価が継続的に下落を続け、貨幣価値が上昇していく現象。
- 4 海外での日本円の価値が上昇し、輸出が伸び悩む現象。

