

2020 年度 入学試験問題

社 会

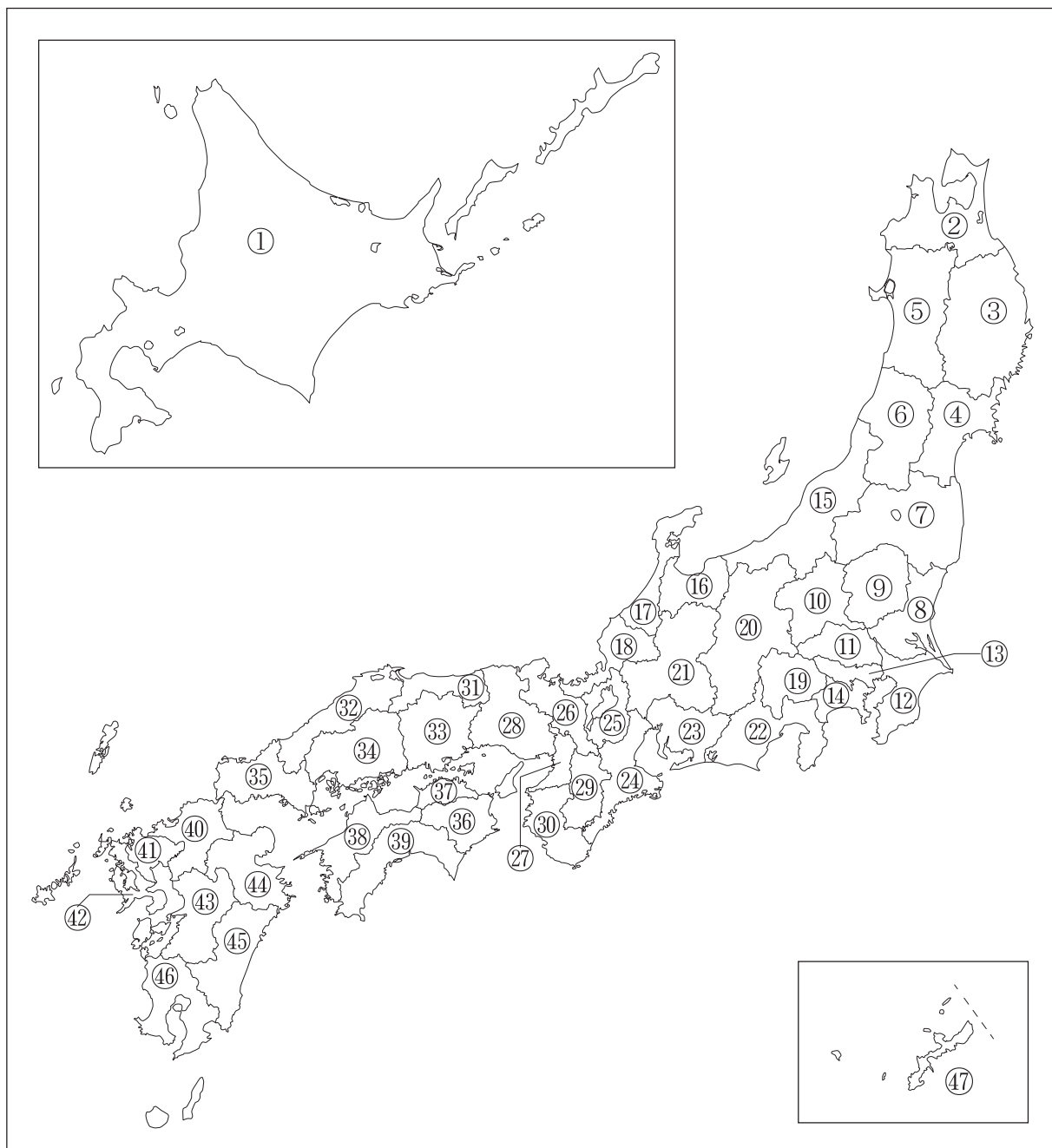
(第 3 回)

[注意]

1. 試験開始の合図があるまで、この問題冊子の中を見てはいけません。
2. 解答用紙は、問題冊子の中にはさんであります。試験開始の合図があったら、解答用紙を取り出して受験番号と氏名を記入し、QRコードシールをはりなさい。
3. 解答はすべて解答用紙に記入しなさい。特に指定がない場合は、ひらがなで構いません。
4. 問題冊子の余白等は自由に使って構いません。
5. 試験終了後、解答用紙のみ提出し、問題冊子は持ち帰りなさい。

- 1 次の略地図と、ある都道府県の特徴について説明した【A】～【D】の文を読んで、あとの問いに答えなさい。

【略地図】



【A】 気候面の特徴としては全域の90%近くが特別豪雪地帯であるが、春季から夏季にかけては が発生しやすく、突発的に猛暑日に見舞われることも決して少なくない。1933年に観測された気温40.8℃は、2007年に埼玉県熊谷市、岐阜県多治見市で観測された気温40.9℃に抜かれるまで、74年間にわたって日本最高気温の記録を保持していた。自然面では領域の大半が山地であり、日本百名山に数えられる山が多くある。日本三大急流の一つに数えられる 川は「母なる川」とよばれ、流域には多くの住民が住んでいる。また、江戸時代には (ウ)松尾芭蕉が『奥の細道』の全行程の約3分の1をこの都道府県内で過ごしたことでも知られる。

問1 文中の空らん にあてはまる語句を次の1～4から一つ選び、番号で答えなさい。

- 1 ゲリラ豪雨 2 やませ 3 偏西風 4 フェーン現象

問2 文中の空らん にあてはまる河川名を漢字で答えなさい。

問3 【A】の都道府県が生産量全国5位以内に入っている、くだものXとYの組合せとして正しいものを下の1～4から一つ選び、番号で答えなさい。

X		Y	
山梨	24.5%	山梨	31.4%
長野	14.7%	福島	22.9%
【A】	9.5%	長野	11.6%
岡山	9.5%	和歌山	8.2%
福岡	4.7%	【A】	6.9%

(『日本のすがた2019』より)

- 1 Xーもも Yーぶどう 2 Xーもも Yー日本なし
 3 Xーぶどう Yーもも 4 Xー日本なし Yーぶどう

問4 下線部 (ウ) について、松尾芭蕉の俳句を次の1～4から全て選び、番号で答えなさい。
一つもない場合は 5 と答えること。

- 1 夏草や兵どもが夢の跡
 2 柿くへば鐘が鳴るなり法隆寺
 3 閑さや岩にしみ入る せみ 蟬の声
 4 菜の花や月は東に日は西に

【B】中央部から南西部にかけては常総平野が広がり、そのなかを小貝川、鬼怒川が流れる。この両河川を合流して、流域面積全国第1位の利根川が、太平洋に注ぎ込んでいる。平坦な土地が多いため、米作りや(エ)野菜栽培がさかんである。南東部は、豊かな水をたたえた日本第2位の面積を有する湖である オ を中心とする水郷地帯となっている。東部は、延長約190キロメートルにおよぶ海岸線がのび、沿岸(カ)漁業の拠点となっている多くの漁港がある。江戸時代には、徳川家の藩が置かれていて、15代将軍の徳川慶喜もこの藩出身である。

問5 下線部(エ)について、レタスとはくさいの生産高の全国に対する割合を示した次の表の にあてはまる都道府県名を漢字で答えなさい。

レタス		はくさい	
<input type="text"/>	37.9%	【B】	27.7%
【B】	15.0%	<input type="text"/>	26.7%
群馬	8.4%	北海道	3.3%
長崎	5.4%	群馬	3.2%
兵庫	4.5%	栃木	2.8%

(『日本のすがた2019』より)

問6 文中の空らん オ にあてはまる語句を答えなさい。

問7 下線部(カ)について、日本の漁業に関する現状について述べた文として、正しいものを次の1～4から一つ選び、番号で答えなさい。

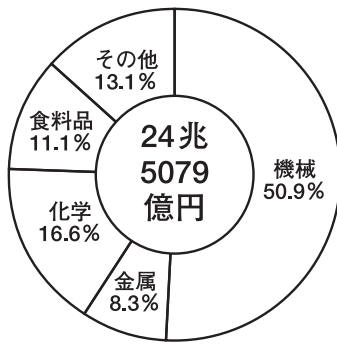
- 1 遠洋漁業の漁獲量は、石油危機による船の燃料代の高騰で1960年代に急激に低下した。
- 2 近年の健康志向の浸透で、魚の需要が増え、日本の漁獲量はここ10年間増加し続けている。
- 3 日本の水産物は海外でも人気を集め、エビ(生)はベトナム、インドネシア、タイなどの東南アジア諸国に多く輸出されている。
- 4 近年は太平洋クロマグロの資源量が減り、漁獲量が制限されている中、近畿大学などがクロマグロの養殖に成功した。

問8 【B】の都道府県の位置を【略地図】から番号で選び、都道府県庁所在地名を漢字で答えなさい。

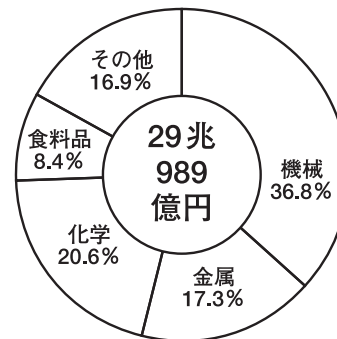
【C】日本の都道府県の中で一番面積が小さい。古来より雨量、河川の流量ともに少なく、水不足に備えて各地に14,000を超える数の^(キ)ため池が造られ点在している。沿岸部には^(ク)工業地域が広がり、造船、石油などの企業が多く立地している。

問9 下線部（キ）について、【C】の南部には日本最大のため池の満濃池^{まんのういけ}がある。この池を改修した平安時代の僧侶が、【略地図】上③の都道府県に建てた寺院名を解答らんにあうように漢字3字で答えなさい。

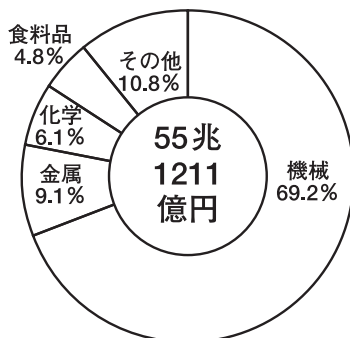
問10 下線部（ク）について、【C】の都道府県を含む工業地帯・地域の工業出荷額と内訳を示すグラフを次の1～4から一つ選び、番号で答えなさい。



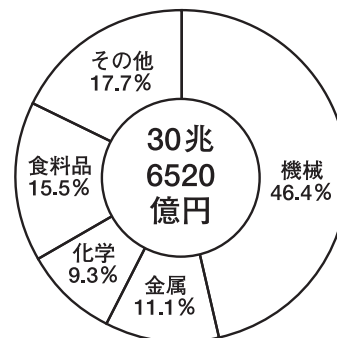
1



2



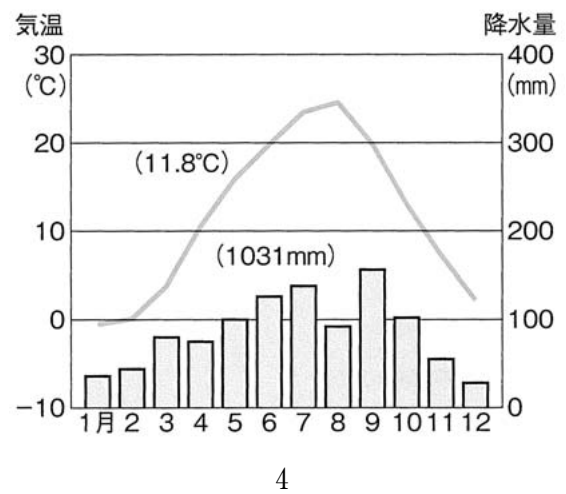
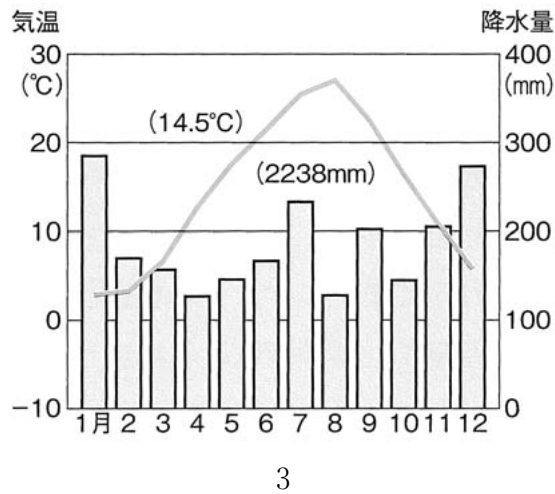
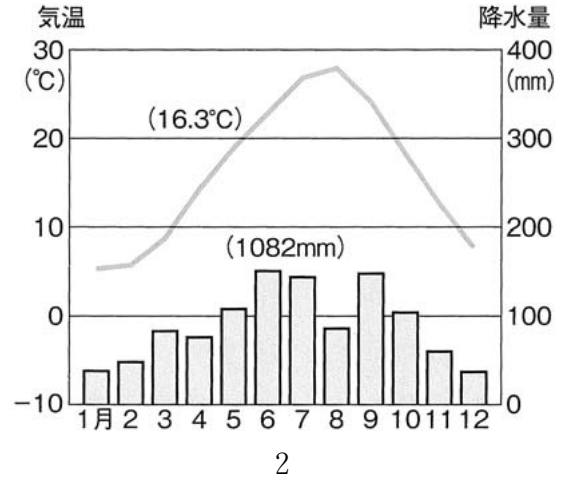
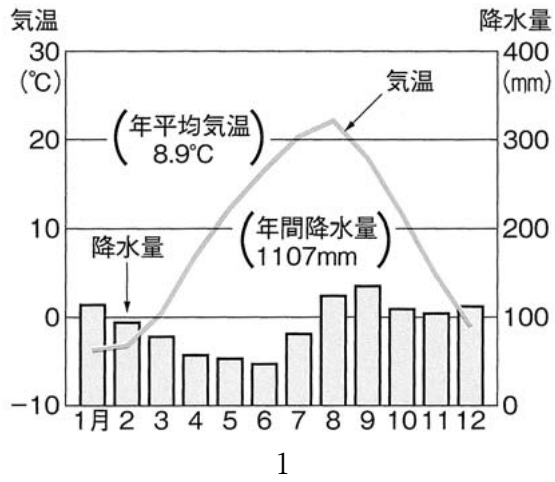
3



4

(『日本のすがた2019』より)

問11 【C】の都道府県の県庁所在地の雨温図として、正しいものを次の1～4から一つ選び、番号で答えなさい。



(『日本のすがた2019』より)

【D】領域の約6割が森林で占められている。北部は比較的緩やかな山地、東から南にかけては標高1,000メートル級の山々に囲まれている。特に世界最大級のカルデラを有する[ケ]山は観光名所としても有名である。2016年には震度7を観測する地震により甚大な被害が観測された。その地震により(コ)西南戦争で戦場にもなった城の石垣の3割が崩落する事態となった。

問12 文中の空らん[ケ]にあてはまる語句を漢字2字で答えなさい。

問13 下線部(コ)について説明した文a・bの正誤の組合せとして正しいものを下の1～4から一つ選び、番号で答えなさい。

- a 西南戦争を皮切りに各地で士族の反乱が起こり、自由民権運動に発展した。
- b 征韓論に反対して政府から離れた西郷隆盛は、西南戦争で敗れた。

- | | | | | | |
|---|-----|-----|---|-----|-----|
| 1 | a－正 | b－正 | 2 | a－正 | b－誤 |
| 3 | a－誤 | b－正 | 4 | a－誤 | b－誤 |

- 2 太郎さんは夏休みに歴史の学習で、年代別に文献を（ア）～（チ）の文章にまとめてみました。それについてあとの問いに答えなさい。

【古代】

- (ア) 光武帝から倭の奴国王が金印とくみひもをもらった。（『あ』東夷伝）
(イ) 邪馬台国の女王が30ぐらいの国を従えていた。（『い』倭人伝）
(ウ) 聖徳太子が制定したとされ、役人についての心得が書かれていた。（『十七条の憲法』）
(エ) 中国にならって、律令国家の基本法典がつくられた。（『大宝律令』）
(オ) 日本最初の和歌集がつくられた。作者は皇族から庶民までの階層であった。（『万葉集』）
(カ) 世界最古の長編小説と言われ、貴族たちの恋愛と人生を描いた。（『源氏物語』）

【中世】

- (キ) 鴨長明が四畳半の部屋（方丈）で人生のはかなさ、むなしさを書いた。（『方丈記』）
(ク) びわ法師によって平家の繁栄と没落が語られた。（『平家物語』）
(ケ) 8代将軍の跡継ぎ争いをきっかけにうの乱がおき京都が焼け野原となった。
(『う』記)

【近世】

- (コ) 農民が刀・弓・槍・鉄砲を持つことが禁止された。（『小早川家文書』）
(サ) 「大名は領地と江戸に交代で住み、毎年4月中に江戸に来ること」（『徳川禁令考』）
(シ) 「ポルトガル船の来航を禁止する。命令を破った時は、船を壊して処刑する」（『徳川禁令考』）
(ス) 「下田、函館以外に神奈川・長崎・新潟・兵庫を開港する。神奈川の開港後6ヶ月したら下田は閉港する」（『幕末外国関係文書』）

【近代】

- (セ) 「大日本帝国は万世一系の天皇が統治する」（『大日本帝国憲法』）
(ソ) 「清国は朝鮮国の完全なる独立を確認する。…中略… 清国は、遼東半島・台湾・澎湖諸島の主権を永遠に日本に与える」（『日本外交年表並主要文書』）

【現代】

- (タ) 「日本国政府が直ちに全日本国軍隊の無条件降伏を宣言すること」（『日本外交年表並主要文書』）
(チ) 「日本国政府は、中華人民共和国政府が中国唯一の合法政府であることを承認する。」
(『日本外交主要文書・年表』)

問1 本文中の空らん ・ にあてはまる文献名の正しい組合せを次の1～6から一つ選び、番号で答えなさい。

- | | | |
|---|---------------------------------------|---------------------------------------|
| 1 | <input type="text" value="あ"/> = 魏志 | <input type="text" value="い"/> = 漢書 |
| 2 | <input type="text" value="あ"/> = 漢書 | <input type="text" value="い"/> = 魏志 |
| 3 | <input type="text" value="あ"/> = 魏志 | <input type="text" value="い"/> = 後漢書 |
| 4 | <input type="text" value="あ"/> = 後漢書 | <input type="text" value="い"/> = 魏志 |
| 5 | <input type="text" value="あ"/> = 後漢書 | <input type="text" value="い"/> = 日本書紀 |
| 6 | <input type="text" value="あ"/> = 日本書紀 | <input type="text" value="い"/> = 漢書 |

問2 文章(ウ)について、聖徳太子とともに推古天皇の政治を支えた人物名として正しいものを次の1～4から一つ選び、番号で答えなさい。

- 1 中臣鎌足 2 蘇我入鹿 3 蘇我馬子 4 中大兄皇子

問3 文章(エ)に関連して、律令国家での農民の負担について説明した文として誤っているものを次の1～4から一つ選び、番号で答えなさい。

- 1 租は稲、調は諸国の産物、庸は布を納めた。
- 2 防人として約3年間の都の警備をおこなった。
- 3 重い負担に耐えられず逃げ出す農民もいた。
- 4 戸籍に基づき、男女ともに口分田が与えられた。

問4 文章(オ)の文献が作られた時代について、東大寺に大仏を造らせた天皇名を解答らんにあうように漢字2字で答えなさい。

問5 文章(カ)について、次の問いに答えなさい。

- (1) この作品の作者名として正しいものを次の1～4から一つ選び、番号で答えなさい。

- 1 和泉式部 2 山上憶良 3 清少納言 4 紫式部

- (2) (1)が仕えた中宮ちゅうぐうしやうし彰子の父親は4人の娘を天皇の后にした。この父親の名前を漢字4字で答えなさい。

問6 文章(ク)について、平清盛の説明文として正しいものを次の1～4から一つ選び、番号で答えなさい。

- 1 源義経を捕らえるために全国の荘園と公領に地頭、国ごとに守護を置いた。
- 2 北方との交易で3代100年にわたり栄え、中尊寺金色堂をつくった。
- 3 壇ノ浦で源氏との戦いに敗れて捕らえられ、京都に送られ処刑された。
- 4 後白河上皇の信任を受け、武士で初めて太政大臣となり、娘を天皇の后にした。

問7 文章(ケ)について、次の問いに答えなさい。

- (1) 8代将軍が京都の東山につくった和風住宅のもととなっている建築様式を漢字3字で答えなさい。
- (2) 文章中の空らん にあてはまる語句を漢字2字で答えなさい。

問8 文章(コ)について、この法を出した人物に関する出来事として、誤っているものを次の1～4から一つ選び、番号で答えなさい。

- 1 諸大名に領国内の居城^{きよ}以外のすべての城を壊すよう命じた。
- 2 キリスト教の布教を制限して、宣教師を国外追放とした。
- 3 ものさし、枅を統一し、田畑の広さをしらべ、年貢を確実にとるようにした。
- 4 朝鮮への2度にわたる侵攻を命じたが、朝鮮水軍などに苦戦した。

問9 文章(サ)を制度化した時の征夷大將軍の名前を次の1～4から一つ選び、番号で答えなさい。

- 1 徳川家康 2 徳川家光 3 徳川綱吉 4 徳川吉宗

問10 文章(シ)が制定された後、ヨーロッパに開かれた唯一の窓口である人工島の名称を漢字2字で答えなさい。

問11 文章（ス）の締結前後の出来事を年代順に並べかえた時に、3番目にあたるものを次の1～4から一つ選び、番号で答えなさい。

- | | |
|-----------------|---------------|
| 1 安政の大獄がおこった | 2 ペリーが浦賀に来航した |
| 3 伊能忠敬が蝦夷地を測量した | 4 薩長連合が成立した |

問12 文章（セ）について、この憲法の作成は君主権の強い国のものを参考にしました。その国名として正しいものを、次の1～4から一つ選び、番号で答えなさい。

- | | | | |
|--------|--------|-------|-------|
| 1 アメリカ | 2 イタリア | 3 ドイツ | 4 ロシア |
|--------|--------|-------|-------|

問13 文章（ソ）の条約が締結された場所の都道府県名を通過する新幹線として正しいものを次の1～4から一つ選び、番号で答えなさい。

- | | | | |
|---------|---------|---------|----------|
| 1 秋田新幹線 | 2 北陸新幹線 | 3 山陽新幹線 | 4 東海道新幹線 |
|---------|---------|---------|----------|

問14 文章（タ）の宣言の名称を解答らんにあうようにカタカナ4字で答えなさい。

問15 文章（チ）の調印前後の出来事を年代順に並べかえた時に、3番目にあたるものを次の1～4から一つ選び、番号で答えなさい。

- | | |
|--------------|-------------|
| 1 日本の国際連合の加盟 | 2 沖縄の日本への返還 |
| 3 第二次石油危機 | 4 日韓基本条約の締結 |

3 次の文章を読み、あとの問いに答えなさい。

(ア) 令和初の^(イ)国政選挙となった^(ウ)参院選は与党である自民党と 党の勝利に終わった。平成初も参院選だったが、ずいぶんと結果は違う。

平成元年は自民党が結党以来、初めて過半数割れし、当時の首相は退陣した。平成とほぼ重なる期間の政治課題は、すべてこの時の参院選が起点になったといつてよい。

その後、^(エ)4度の政権交代が起こったものの、自民党が野党の時代は4年余りとどまる。30年たつて自民党がなお、1強状態を維持した今回の選挙結果をどう考えればよいのだろうか。

おそらく理由のひとつは反自民、非自民だけを目的とした^{わく}枠組みが、以前ほど有権者に^{ひび}響かなくなったことにある。世論調査では賛否が拮抗する^(オ)消費増税で、野党は反対で足並みをそろえたが、1人区での共闘結果は前回並みに終わった。

選挙戦の当初に照準を絞った「老後資産2000万円」も盛り上がりを欠き、結果として^(カ)社会保障の議論は低調なままだった。

外交・安全保障政策も深まらなかった。選挙戦中には、^(キ)日本経済の死命を制するホルムズ海峡警護で米国が有志連合を呼びかけたにもかかわらず、与野党の論戦は^{にぶ}鈍かった。

令和初の国政選挙が浮き彫りにしたのは、^(ク)政権交代可能な二大政党づくりに注力した平成の政治改革を^{かつ}総括し、新たな道標を指し示す必要性だろう。^(ケ)30年前は米国とソ連の冷戦構造が崩壊しつつある時期にあたった。いま^(コ)世界の政治と経済には^(サ)グローバル化とデジタル化の大波が押し寄せ、20世紀型の国家像は大きく^ゆ揺さぶられている。

憲法を^{かか}掲げた 総裁が率いる自民党は、3度の衆院選と3度の参院選で勝利した。憲法改正の議論にも21世紀のグローバル・デジタル時代に即した新たな国家像を探る観点が必要だろう。国会の憲法審査会で、与野党が正面から取り組む必要がある。(以下略)

(2019/7/22 日本経済新聞朝刊より引用)

問1 文中の にあてはまる語句を、漢字で答えなさい。

問2 文中の にあてはまる人物の姓名を、漢字で答えなさい。

問3 下線部(ア)について、「平成」・「令和」よりすぐ前の元号三つを古い順に漢字で答えなさい。

問4 下線部（イ）について、国政選挙の選挙権について述べた文として、内容が正しいものを次の1～4から一つ選びなさい。

- 1 1890年に実施された衆議院議員選挙では、有権者の割合は国民全体の1%程度だった。
- 2 1900年には治安警察法が制定されるとともに、納付すべき直接国税の額が引き上げられた。
- 3 1919年には、「平民宰相」のもとで、男子普通選挙が実現した。
- 4 1925年には、治安維持法が制定されるとともに、女性にも選挙権が与えられた。

問5 下線部（ウ）について、現行の参議院議員選挙について述べた文として、内容が誤っているものを次の1～4からすべて選び、番号で答えなさい。

- 1 選挙区選挙では、各都道府県を1つの選挙区として47の選挙区が設定されている。
- 2 比例代表選挙では、全国を1つの選挙区として候補者が立てられる。
- 3 候補者は、選挙区選挙と比例代表選挙に重複立候補することができる。
- 4 比例代表選挙で各政党が獲得した議席は、あらかじめ各政党が作成した候補者名簿の順番にしたがって配分される。

問6 下線部（エ）について、一番最近の政権交代は2012年におこったが、2009～2012年に政権を担当した首相として誤っているものを次の1～5から2つ選び、番号で答えなさい。

- | | | |
|--------|--------|---------|
| 1 野田佳彦 | 2 細川護熙 | 3 鳩山由紀夫 |
| 4 菅直人 | 5 村山富市 | |

問7 下線部（オ）について、昨年（2019年）10月に増税された後も、食料品などについては、従来通り8%の税率に据え置かれています。これを何と呼びますか。漢字4字で答えなさい。

問8 下線部（カ）について、下の日本国憲法25条の条文の空らんにあてはまる語句を答えなさい。

すべて国民は、健康で文化的な を営む権利を有する。

問9 下線部(キ)について、なぜ、「日本経済の死命を制するホルムズ海峡」と言えるのですか。その理由を「ホルムズ海峡」という語句を用いて20字以上30字以内で説明しなさい。(句読点も字数に含みます)

問10 下線部(ク)について、2020年1月現在、アメリカ合衆国大統領が所属している政党の名称を、漢字で答えなさい。

問11 下線部(ケ)について、平成元(1989)年におこった出来事として誤っているものを次の1～6から二つ選び、番号で答えなさい。

- | | | | | | |
|---|----------|---|------------|---|----------|
| 1 | ベルリンの壁崩壊 | 2 | ベトナム戦争の終結 | 3 | マルタ会談の開催 |
| 4 | 東欧諸国の民主化 | 5 | 第二次石油危機の発生 | 6 | 天安門事件の発生 |

問12 下線部(コ)について、昨年(2019年)以来、「逃亡犯条例」制定の是非をめぐって大規模な抗議行動が繰り返されている地域の名称を答えなさい。

問13 下線部(サ)について、現在、経済産業省が中心となって現金(紙幣・貨幣)を用いない経済の活性化が推進されています。このような現象を何といいますか。下の空らんにあてはまる語句を、カタカナ7字で答えなさい。(空らんには同じ語句が入ります)

経済の	<input type="text"/>	化、または	<input type="text"/>	経済
-----	----------------------	-------	----------------------	----

