

2021 年度 入学試験問題

社 会

(第 2 回)

[注意]

1. 試験開始の合図があるまで、この問題冊子の中を見てはいけません。
2. 解答用紙は、問題冊子の中にはさんであります。試験開始の合図があったら、解答用紙を取り出して受験番号と氏名を記入し、QRコードシールをはりなさい。
3. 解答はすべて解答用紙に記入しなさい。特に指定がない場合は、ひらがなで構いません。
4. 問題冊子の余白等は自由に使って構いません。
5. 試験終了後、解答用紙のみ提出し、問題冊子は持ち帰りなさい。

1 次の問いに答えなさい。

I. としお君は、日本とつながりの深いアジアの国々を2か国取りあげてまとめることにしました。その内容を読んで、あとの問いに答えなさい。

A この国は東アジアにあり、多くの人口と広大な面積を誇る国です。人口は日本のおよそ11.4倍、面積は日本のおよそ25倍あります。大半の人々が気候が比較のおだやかな沿岸部で暮らしていますが、中には冬に氷点下20℃を下回る寒冷地域や標高4000mを超える山岳地域、^(ア) 砂漠が連なる乾燥地域で暮らす人々もいます。

この国は工業生産が盛んなことから「世界の工場」ともいわれ、わが国にとって^(イ) 輸出と輸入を合わせた貿易額は最も多く、経済的な交流は年々深くなっています。一方で、海洋進出に伴って、わが国とは 諸島、ベトナムやフィリピンなどとは 諸島の領有をめぐる意見の対立がみられます。

B この国は東南アジアの南東部にあり、大小さまざまな島々から構成されている島国です。

^(ウ) 人口は日本のおよそ2.1倍、面積は日本のおよそ5.1倍あります。年中暖かい熱帯の気候で、日本からも観光を目的に多くの人々が訪れています。

日本と同じようにしばしば大地震が発生する地域で、2004年の大地震では沿岸部の多くの人々が地震に伴って発生した の被害を受けました。日本はこの国から金属資源や^(エ) エネルギー資源を輸入しています。また、この国の90%近くの人々が 教徒で、1日5回の礼拝や豚肉を口にしないなどの宗教上のきまりを守って生活を送っています。

問1 文中の空らん ~ にあてはまる語句を答えなさい。なお、 ~ はそれぞれ漢字2字で、 はカタカナで答えなさい。

問2 A国とB国の名称を次の1~6からそれぞれ1つずつ選び、番号で答えなさい。

- | | | |
|---------------|---------|-----------|
| 1 インドネシア | 2 タイ | 3 中華人民共和国 |
| 4 朝鮮民主主義人民共和国 | 5 マレーシア | 6 ロシア連邦 |

問3 下線部(ア)について、乾燥地域であっても水が湧き出る地域がいくつかみられ、その地域を結ぶことで砂漠を横断してヨーロッパまで到達する交易路が作られました。一部が世界遺産にも登録されているこの交易路の名称をカタカナ6字で答えなさい。

問4 下線部（イ）について、次の表1と表2は日本と外国との貿易の内訳を示したもので、表1と表2はそれぞれA国かアメリカ合衆国のいずれかがあてはまります。2つの表を参考にして、日本とアメリカ合衆国との貿易状況を説明した文の空らんにあてはまる語句の組合せを下の1～4から1つ選び、番号で答えなさい。

表1

	貿易額	内訳 (%)
日本からの輸出	14兆6819億円	機械類43.8, プラスチック5.6, 自動車5.4, 科学光学機器5.1, 自動車部品4.7 など
日本への輸入	18兆4537億円	機械類47.0, 衣類9.7, 金属製品3.7, 家具2.5, がん具2.1 など

『日本国勢図会2020/21』

表2

	貿易額	内訳 (%)
日本からの輸出	15兆2545億円	機械類36.8, 自動車28.1, 自動車部品5.5, 航空機部品2.8, 科学光学機器2.2 など
日本への輸入	8兆6401億円	機械類26.3, 航空機類5.8, 医薬品5.6, 科学光学機器5.3, 肉類4.6 など

『日本国勢図会2020/21』

2つの表のうち、日本とアメリカ合衆国との貿易を示したものは で、貿易額から判断して、日本にとってアメリカ合衆国との貿易は の状態となっている。

- 1 ①：表1 ②：貿易黒字 2 ①：表1 ②：貿易赤字
 3 ①：表2 ②：貿易黒字 4 ①：表2 ②：貿易赤字

問5 下線部（ウ）について、B国の人口と面積について最も近い数値の組合せを次の1～6から一つ選び、番号で答えなさい。

	1	2	3	4	5	6
人口 (億人)	1.2	1.2	1.2	2.7	2.7	2.7
面積 (万km ²)	38	190	380	38	190	380

『データブック オブ・ザ・ワールド2020』

問6 下線部（エ）について、次の表3は日本がB国から輸入しているあるエネルギー資源の産出量と輸出量、輸入量の上位国をそれぞれまとめたものです。この資源の名称を次の1～4から一つ選び、番号で答えなさい。

表3

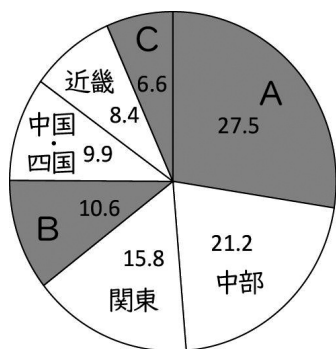
産出上位国		輸出上位国		輸入上位国	
A	54.5%	オーストラリア	29.9%	A	20.4%
インド	10.6	B	28.4	インド	15.3
B	7.3	ロシア連邦	12.7	日本	14.9
オーストラリア	6.6	コロンビア	6.4	大韓民国	10.2
ロシア連邦	4.7	南アフリカ	5.4	ドイツ	4.6

『データブック オブ・ザ・ワールド2020』

- 1 ウラン 2 原油 3 石炭 4 天然ガス

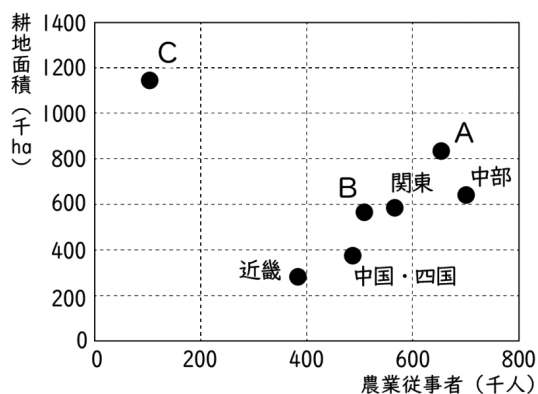
II. 日本の自然環境や産業に関して、あとの問いに答えなさい。

問7 次の図1の円グラフは日本の各地方別の米の生産割合を表したものの、図2のグラフは日本の各地方別の農業従事者と耕地面積を表したものであり、それぞれ図中のA～Cは北海道、東北、九州（沖縄を含む）のいずれかにあたります。A～Cと各地方の正しい組合せを次の1～6から一つ選び、番号で答えなさい。



『データでみる県勢2020年版』より作成

図1

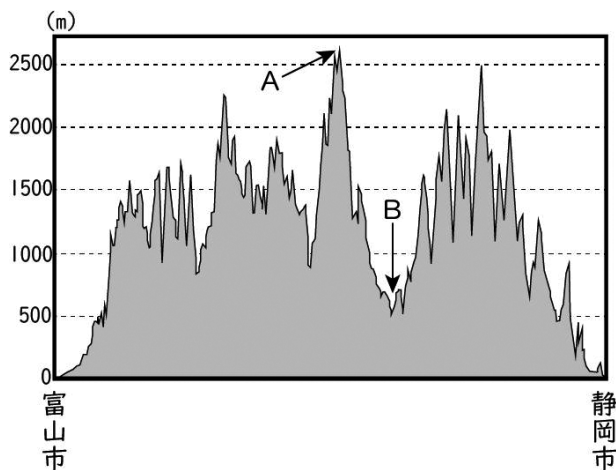


『データでみる県勢2020年版』より作成

図2

	1	2	3	4	5	6
A	北海道	北海道	東北	東北	九州	九州
B	東北	九州	北海道	九州	北海道	東北
C	九州	東北	九州	北海道	東北	北海道

問 8 次の図 3 は、富山市と静岡市を直線で結んだ際の断面を示したものです。図中の A は中部地方を南北に連なる山脈、B は諏訪湖を水源に 7 つのダムを経て浜松市で太平洋に注ぎ込む河川です。図中の A 山脈と B 川の名称を解答らんにあうように答えなさい。



国土地理院『地理院地図』より作成

図 3

問 9 次の表 4 は、中国・四国地方にある 3 都市の気温と降水量を示したもので、A～C はそれぞれ、広島、松江、高知のいずれかがあてはまります。A～C と各都市の正しい組合せを次の 1～6 から 1 つ選び、番号で答えなさい。

表 4

		1月	2月	3月	4月	5月	6月	7月	8月	9月	10月	11月	12月	年平均
A	気温 (°C)	6.3	7.5	10.8	15.6	19.7	22.9	26.7	27.5	24.7	19.3	13.8	8.5	16.9
	降水量 (mm)	58.6	106.3	190.0	244.3	292.0	346.4	328.3	282.5	350.0	165.7	125.1	58.4	2547.6
B	気温 (°C)	4.3	4.7	7.6	12.9	17.5	21.3	25.3	26.8	22.6	16.8	11.6	6.9	14.9
	降水量 (mm)	147.2	121.9	132.6	109.4	134.6	189.8	252.4	113.7	197.9	119.5	130.6	137.6	1787.2
C	気温 (°C)	5.2	6.0	9.1	14.7	19.3	23.0	27.1	28.2	24.4	18.3	12.5	7.5	16.3
	降水量 (mm)	44.6	66.6	123.9	141.7	177.6	247.0	258.6	110.8	169.5	87.9	68.2	41.2	1537.6

気温・降水量は1981～2010年の平均値。『気象庁データベース』より作成

	1	2	3	4	5	6
A	広島	広島	松江	松江	高知	高知
B	松江	高知	広島	高知	広島	松江
C	高知	松江	高知	広島	松江	広島

問10 次の表5は、2018年におけるもも、おうとう、ぶどうの主産地と生産割合をそれぞれ示したものです。空らん①・②にあてはまる都道府県名を漢字で答えなさい。

表5

もも		おうとう		ぶどう	
①	34.8%	②	78.5%	①	23.9%
福島	21.4	北海道	6.0	長野	17.8
長野	11.7	①	5.1	②	9.2
②	7.1	秋田	2.3	岡山	8.8
和歌山	6.6	他	8.1	福岡	4.2
国内生産量	11.3万t	国内生産量	1.8万t	国内生産量	17.4万t

『作物統計調査』

(問題は次のページに続く)

- 2 こはく君には、日本が真珠湾攻撃をおこなった日に生まれたおじいちゃんがあります。そのおじいちゃんの話聞いて作成した、2020年代から1020年代までの「日本の100年歴史表」を見て、あとの問いに答えなさい。

【日本の100年歴史表】

2020年代	(ア) <u>東京五輪</u> の開幕が1年後に延期された
1920年代	(イ) <u>国際連盟</u> に正式加入
1820年代	(ウ) ^{やまがたばんとう} <u>山片蟠桃</u> が著書『 ^{しろ} 夢の代』を残す
1720年代	江戸町奉行の(エ) <u>大岡忠相</u> が、町火消し「いろは組」を編成
1620年代	(オ) <u>徳川秀忠</u> の娘 ^{まさこ} 和子 ^{じゅだい} が入内
1520年代	京で蜂起した(カ) <u>土一揆</u> が將軍御所に放火
1420年代	(キ) <u>応永の大飢饉</u> が起こる
1320年代	(ク) <u>後醍醐天皇</u> が親政を開始する
1220年代	(ケ) <u>六波羅探題</u> が設置される
1120年代	奥州藤原氏によって(コ) <u>中尊寺金色堂</u> が建立される
1020年代	(サ) <u>平忠常の乱</u> が起こる

- 問1 2021年2月現在、おじいちゃんは満何歳ですか。解答らんにあうように算用数字で答えなさい。
- 問2 下線部(ア)について、前回の東京五輪が開催された年を解答らんにあうように西暦で答えなさい。
- 問3 下線部(イ)について説明した文として誤っているものを次の1～4から一つ選び、番号で答えなさい。

- 1 本部は、ジュネーブにおかれた。
- 2 アメリカは当初不参加であったが、のちに加盟国となった。
- 3 制裁手段として、経済制裁を行使できた。
- 4 勢力均衡にかわる新しい国際体制の原則として集団安全保障体制を目指した。

問4 下線部(イ)について、日本が国際連盟に正式加入した年を解答らんにあうように元号で答えなさい。

問5 下線部(ウ)について、山片蟠桃^{やまがたばんとう}は播磨国出身の学者です。播磨国とは現在の何県にあたりますか、漢字で答えなさい。

問6 下線部(エ)について、彼を江戸町奉行に登用した徳川吉宗の「享保の改革」の説明として正しいものを次の1～4から一つ選び、番号で答えなさい。

- 1 町人が幕府に意見をする機会を作るために、儉約令を発令した。
- 2 町人に対して上げ米の令を発令し、石高1万石につき100石の米を税として徴収する代わりに参勤交代を半減させた。
- 3 堂島米市場を公認し、米の価格調節を図った。
- 4 米の収穫量を増やすため、町人や役人に新田開発を制限させた。

問7 下線部(オ)について、秀忠の治世で起こった内容として誤っているものを次の1～6から一つ選び、番号で答えなさい。すべて正しい場合は、7と答えなさい。

- 1 大坂夏の陣
- 2 平戸に商館を建設し、オランダとの貿易開始
- 3 菱垣廻船の創設
- 4 武家諸法度・禁中並公家諸法度の制定
- 5 大坂冬の陣
- 6 ロシア使節のラクスマンが根室に来航

問8 下線部(カ)について、一番東の地でおこった一揆を次の1～4から一つ選び、番号で答えなさい。

- 1 三河の一向一揆
- 2 正長の徳政一揆
- 3 山城の国一揆
- 4 越前の一方向一揆

問9 下線部(キ)について、干ばつが主因のこの飢饉で、室町時代の農村は大きな被害を受けました。室町時代の農村の説明として誤っているものを次の1～4から一つ選び、番号で答えなさい。

- 1 二毛作が各地に普及した。
- 2 刈敷^{かりしき}や草木灰に加えて、人糞尿などの肥料が普及した。
- 3 農業用水を確保し、龍骨車^{りゅうこつしゃ}や水車が普及した。
- 4 分業と協業を軸とするマニファクチュアが発展した。

問10 下線部(ク)について説明した文a・bの正誤の組合せとして正しいものを下の1～4から一つ選び、番号で答えなさい。

- a 保元の乱で兄の崇徳上皇を配流し、その後天皇5代にわたり院政を行った。
- b 白河法皇の孫で、法皇の死後、院政を行った。

- | | |
|-----------|-----------|
| 1 a—正 b—正 | 2 a—正 b—誤 |
| 3 a—誤 b—正 | 4 a—誤 b—誤 |

問11 下線部(ケ)について、初代の六波羅探題を務めた人物として正しいものを次の1～4から一つ選び、番号で答えなさい。

- | | |
|--------|--------|
| 1 北条義時 | 2 北条泰時 |
| 3 北条経時 | 4 北条時政 |

問12 下線部(コ)について、この仏堂がある都道府県を漢字で答えなさい。

問13 下線部(サ)について、この乱よりも前に起こった乱として誤っているものを次の1～4から一つ選び、番号で答えなさい。

- 1 壇ノ浦の戦い
- 2 藤原純友の乱
- 3 壬申の乱
- 4 平将門の乱

(問題は次のページに続く)

- 3 令和元（2019）年 11 月 20 日に安倍晋三首相（当時）は、通算在職日数が桂太郎を抜いて歴代最長となった。時代が 100 年以上違う、この二人に関することを表にまとめてみました。【表】を見て、あとの問いに答えなさい。

【表】

	桂太郎	安倍晋三
出身	山口県	東京都
在職日数	2886 日	3188 日
主な経歴	<p>○長州藩士の子。①<u>戊辰戦争</u>で奥州各地を転戦し、山県有朋のもとで軍制の改革に貢献した。②日清戦争では師団長として出征。台湾総督などを歴任し、第 3 次③<u>伊藤博文内閣</u>で陸軍大臣に就任。</p> <p>○第 4 次伊藤博文内閣のあとをうけ組閣。日英同盟の締結、④<u>日露戦争</u>の遂行に尽力したが、日比谷焼打ち事件がおこる。第 2 次日露協約を締結し、韓国併合を実現させ、関税自主権を回復した。また大逆事件により社会主義者を弾圧した。</p> <p>○陸軍が第 2 次西園寺公望内閣を倒したのち、内大臣から組閣。⑤<u>第 1 次護憲運動</u>により 53 日で退陣した。</p>	<p>○祖父は⑥<u>岸信介</u>。大学卒業後企業に就職したが、父親のあとをうけて出馬し、衆議院議員となる。⑦<u>小泉純一郎内閣</u>の官房長官など歴任。</p> <p>○2006 年、⑧<u>内閣</u>を成立させ、改正教育基本法を制定した。2007 年には、憲法改正を前提とした⑨<u>国民投票法</u>を制定した。</p> <p>○2014 年 4 月、⑩<u>消費税 8% 導入</u>。同年 7 月、⑪<u>集団的自衛権行使容認</u>を閣議決定。</p> <p>○2019 年、中国で⑫<u>国家主席</u>と会談を行った。</p>

問 1 下線部①について、戊辰戦争において、新政府軍の西郷隆盛と幕府側代表として江戸城無血開城の交渉をした人物を漢字で答えなさい。

問 2 下線部②について、この戦争の講和条約を結んだ場所の説明文として、正しいものを次の 1～4 から一つ選び、番号で答えなさい。

- 1 かつては東海道の宿場町、織物・楽器・自動車工業が盛んである。
- 2 日本海に面する城下町として栄えた。伝統的な焼き物・織物が盛んである。
- 3 陸海の交通要所、遠洋漁業の拠点、商工業が盛ん。源平の合戦の地でもある。
- 4 北上川など河川の合流点にある盆地にあり、鉄鋳物が有名、県庁所在地である。

問3 下線部③について、伊藤博文が中心となって起草した大日本帝国憲法に関する次の(1)・(2)の問いに答えなさい。

(1) 起草にあたり模範とした国として正しいものを次の1～4から一つ選び、番号で答えなさい。

- 1 アメリカ 2 スペイン 3 イタリア 4 ドイツ

(2) この憲法では規定されていない内容として正しいものを次の1～4から一つ選び、番号で答えなさい。

- 1 国会（議会）に関すること 2 地方自治に関すること
3 国民（臣民）の権利に関すること 4 天皇に関すること

問4 下線部④の戦争の講和条約を通じて日本が得たことについて正しいものを次の1～4から一つ選び、番号で答えなさい。

- 1 賠償金をもらうこと 2 朝鮮の独立の承認
3 台湾の領有 4 南樺太の領有権

問5 下線部⑤は桂太郎内閣に対して、政党内閣の確立をもとめた運動である。

日本における政党内閣に関する説明文として誤っているものを、次の1～4から一つ選び、番号で答えなさい。

- 1 衆議院で多数の議席を占めた政党であっても組閣できないこともあった。
2 首相をはじめ、すべて大臣が与党所属の議員であった。
3 初の本格的な内閣は、1918年に成立した原敬内閣であった。
4 日本国憲法の制定により、戦後すべての内閣が政党内閣となった。

問6 下線部⑥の首相時代に起きた出来事として正しいものを次の1～4から一つ選び、番号で答えなさい。

- 1 沖縄返還 2 日中平和友好条約の締結
3 日ソ共同宣言 4 日米安全保障条約の改定

問7 下線部⑦について、小泉純一郎内閣時代に行われた構造改革で民営化が決定された事業を漢字2字で答えなさい。

問8 下線部⑧について、内閣の仕事として誤っているものを次の1～4から一つ選び、番号で答えなさい。

- | | |
|----------------|--------------------|
| 1 外交関係进行处理すること | 2 最高裁判所長官を任命すること |
| 3 条約を締結すること | 4 予算を作成して国会に提出すること |

問9 下線部⑨の説明文として正しいものを、次の1～4から一つ選び、番号で答えなさい。

- 1 18歳以上の国民による投票で過半数の賛成を必要とする。
- 2 20歳以上の国民による投票で過半数の賛成を必要とする。
- 3 18歳以上の国民による投票で三分の二以上の賛成を必要とする。
- 4 20歳以上の国民による投票で三分の二以上の賛成を必要とする。

問10 下線部⑩について、平成29(2017)年の日本の税収における消費税をはじめとする間接税と、所得税をはじめとする直接税の割合として最も正しいものを次の1～4から一つ選び、番号で答えなさい。

- | | |
|-------------------|-------------------|
| 1 直接(67%)：間接(33%) | 2 直接(22%)：間接(78%) |
| 3 直接(89%)：間接(11%) | 4 直接(45%)：間接(55%) |

問11 下線部⑪に関連して、下の日本国憲法第9条にあてはまる正しい語句の組合せを次の1～4から一つ選び、番号で答えなさい。

「日本国民は、正義と秩序を基調とする国際平和を誠実に希求し、国権の発動たる戦争と、武力による威嚇又は武力の行使は、を解決する手段としては、永久にこれをする。」

- | | | | |
|----------|------|----------|------|
| 1 X：交戦 | Y：放棄 | 2 X：国際紛争 | Y：廃棄 |
| 3 X：国際紛争 | Y：放棄 | 4 X：交戦 | Y：廃棄 |

問12 下線部⑫について、この人物名を漢字で答えなさい。

